

解题思路： $A_1/A_2=1$ ，

$$\varphi_{12} = \varphi_{21} = 1$$

$$Q = \frac{A_1 C_0 \left[\left(\frac{T_1}{100} \right)^4 - \left(\frac{T_2}{100} \right)^4 \right]}{\frac{1}{\varepsilon_1} + \frac{1}{\varepsilon_2} - 1}$$

当 1 A B 2 时，

$$\begin{aligned} \frac{Q}{A} &= \frac{C_0 \times 10^{-8} [T_1^4 - T_3^4]}{\frac{1}{\varepsilon_1} + \frac{1}{\varepsilon_A} - 1} \\ &= \frac{C_0 \times 10^{-8} [T_1^4 - T_2^4]}{\frac{1}{\varepsilon_1} + \frac{1}{\varepsilon_A} - 1 + \frac{1}{\varepsilon_2} + \frac{1}{\varepsilon_B} - 1} \end{aligned} \quad (1)$$

当 1 B A 2 时，

$$\begin{aligned} \frac{Q}{A} &= \frac{C_0 \times 10^{-8} [T_3^4 - T_2^4]}{\frac{1}{\varepsilon_A} + \frac{1}{\varepsilon_2} - 1} \\ &= \frac{C_0 \times 10^{-8} [T_1^4 - T_2^4]}{\frac{1}{\varepsilon_1} + \frac{1}{\varepsilon_B} - 1 + \frac{1}{\varepsilon_A} + \frac{1}{\varepsilon_2} - 1} \end{aligned} \quad (2)$$

由 (1)(2) 式可见，两状况下 Q/A 相等

$$\therefore \frac{\frac{1}{\varepsilon_A} + \frac{1}{\varepsilon_2} - 1}{\frac{1}{\varepsilon_1} + \frac{1}{\varepsilon_A} - 1} = \frac{T_3^4 - T_2^4}{T_1^4 - T_3^4}$$

得 ε_A

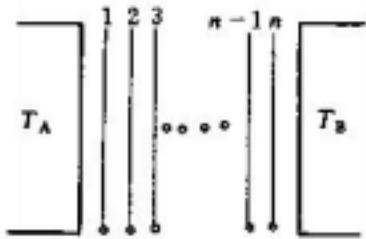
同理：
$$\frac{\frac{1}{\varepsilon_2} + \frac{1}{\varepsilon_B} - 1}{\frac{1}{\varepsilon_1} + \frac{1}{\varepsilon_A} - 1} = \frac{T_3^4 - T_2^4}{T_1^4 - T_3^4}$$

得 ε_A

17. 已知： $T_A > T_B$ ，无遮热板传热 Q ， n 块遮热板传热 Q'

$$\varphi_{12} = \varphi_{23} = \dots = \varphi, \varepsilon_A = \varepsilon_B = \dots = \varepsilon$$

求证：
$$\frac{Q'}{Q} = \frac{1}{n+1}$$



解题思路：

$$\begin{aligned} \frac{Q}{A} &= \frac{C_0 \left[\left(\frac{T_A}{100} \right)^4 - \left(\frac{T_B}{100} \right)^4 \right]}{2\varphi \left(\frac{1}{\varepsilon} - 1 \right) + 1} \\ &= \frac{C_0 \left[\left(\frac{T_A}{100} \right)^4 - \left(\frac{T_B}{100} \right)^4 \right]}{2 \left(\frac{1}{\varepsilon} - 1 \right) + \frac{1}{\varphi}} \\ \frac{Q'}{A} &= \frac{C_0 \left[\left(\frac{T_A}{100} \right)^4 - \left(\frac{T_1}{100} \right)^4 \right]}{2 \left(\frac{1}{\varepsilon} - 1 \right) + \frac{1}{\varphi}} = \dots \\ &= \frac{C_0 \left[\left(\frac{T_n}{100} \right)^4 - \left(\frac{T_B}{100} \right)^4 \right]}{2 \left(\frac{1}{\varepsilon} - 1 \right) + \frac{1}{\varphi}} \end{aligned}$$

由加和性（等比定理）得

$$\frac{Q'}{A} = \frac{C_0 \left[\left(\frac{T_A}{100} \right)^4 - \left(\frac{T_B}{100} \right)^4 \right]}{(n+1) \left[2 \left(\frac{1}{\varepsilon} - 1 \right) + \frac{1}{\phi} \right]}$$

18. 已知：内钢管 $25 \times 2.5\text{mm}$ ， $\lambda = 45\text{W/m} \cdot \text{K}$ ，管内冷水湍流， $\alpha_1 = 2000\text{W/m}^2 \cdot \text{K}$ ，环隙热气湍流， $\alpha_2 = 50\text{W/m}^2 \cdot \text{K}$ ，不计垢层热阻。

- 求：(1) 管壁热阻占总热阻的百分率
 (2) $u_{\text{水}}$ 增倍， K'
 (3) $u_{\text{气}}$ 增倍， K''

解题思路：(1) $K = \left(\frac{1}{\alpha_1} \frac{d_2}{d_1} + \frac{d_2}{2\lambda} \ln \frac{d_2}{d_1} + \frac{1}{\alpha_2} \right)^{-1}$

总热阻 $\frac{1}{K}$

管壁热阻 $\frac{d_2}{2\lambda} \ln \frac{d_2}{d_1}$

得管壁热阻分率

(2) $\alpha_1' = 2^{0.8} \alpha_1 = 2^{0.8} \times 2000 = 3.48 \times 10^3 \text{W/m}^2 \cdot \text{K}$

求得 K'

增加 $\frac{K' - K}{K}$

(3) $\alpha_2' = 2^{0.8} \alpha_2 = 2^{0.8} \times 50 = 87.1 \text{W/m}^2 \cdot \text{K}$

求得 K''

增加 $\frac{K'' - K}{K}$

由上可知，管壁热阻往往占分率很小，可忽略；提高 K 值，强化传热，应在小处着手。

19. 已知：管子 $68 \times 4\text{mm}$ ， $\lambda = 0.08\text{W/m} \cdot \text{K}$ ， $t_{\text{外}} = 20$ ， $\alpha_1 = 5000\text{W/m}^2 \cdot \text{K}$ ， $\alpha_2 = 10\text{W/m}^2 \cdot \text{K}$ ，

求：(1) 每米管长冷凝量 w ；

(2) 保温层外表面温度 t_w

解题思路：(1) $d_1 = 0.068 - 2 \times 0.004 = 0.06\text{m}$ ， $d_0 = 0.068\text{m}$

$d_2 = 0.068 + 2 \times 0.03 = 0.128\text{m}$ ，

不计管壁热阻

$$\therefore K = \left(\frac{1}{\alpha_1} \frac{d_2}{d_1} + \frac{d_2}{2\lambda} \ln \frac{d_2}{d_0} + \frac{1}{\alpha_2} \right)^{-1}$$

$$Q = K_2 A_2 (T - t_{\text{外}}) = K_2 \pi d_2 L (T - t_{\text{外}})$$

查 0.2MPa (表) 下，饱和蒸汽 $T=133.3$ ， $r=2168.1$ kJ/kg

$$\therefore Q_L = K_2 \pi d_2 (T - t_{外})$$

$$w = \frac{Q_L}{r}$$

$$K_2 (T - t_{外}) = \alpha_2 (t_w - t_{外})$$

$$\therefore t_w = \frac{K_2}{\alpha_2} (T - t_{外}) + t_{外}$$

20. 已知：球罐 $d_1=1.2$ m， $t_1=-196$ ，绝热材料 $\lambda=0.02$ W/m·K， $t_w=28$ ， $t_{气}=32$ ， $\alpha_2=12$ W/m²·K。

求：绝热层厚度

解题思路：大气向球罐传热

$$Q = \alpha_2 \pi d_2^2 (t_{气} - t_w)$$

保温层导热

$$Q = \lambda \frac{A_m \Delta t}{\delta} = \lambda \frac{\pi d_1 d_2}{\delta} (t_w - t_1)$$

两 Q 相等，得

21. 已知：列管式冷凝器，管子 28×2.5 mm， $\lambda=45$ W/m·K，水在管内高度湍流流动 α_2 ，管外蒸汽冷凝 α_1 ，传热系数 K 以外表面为基准。

试验次数	第一次		第二次
流速 (m/s)	1.0	2.0	1.0
传热系数 K (W/m ² ·K)	1200	1860	1100

求：(1) 第 1 次， α_1 ， $\alpha_2|_{u=2\text{m/s}}$ ；

(2) 第 2 次，K 值变化原因。

解题思路：(1) 设 $K_{1,0}$ 为 $u=1$ m/s 的 K， $K_{2,0}$ 为 $u=2$ m/s 的 K

$$\frac{1}{K_{1,0}} = \frac{1}{\alpha_1} + \frac{d_1}{2\lambda} \ln \frac{d_1}{d_2} + \frac{d_1}{\alpha_2 d_2} \quad (1)$$

$$\frac{1}{K_{2,0}} = \frac{1}{\alpha_1} + \frac{d_1}{2\lambda} \ln \frac{d_1}{d_2} + \frac{d_1}{\alpha_2' d_2}$$

$$\text{且 } \alpha_1 \propto u^{0.8} \quad \alpha_2' = \left(\frac{u_{2,0}}{u_{1,0}} \right)^{0.8} \alpha_2 = 2^{0.8} \alpha_2 = 1.74 \alpha_2$$

$$\therefore \frac{1}{K_{1,0}} - \frac{1}{K_{2,0}} = \frac{d_0}{d_1} \left(\frac{1}{\alpha_2} - \frac{1}{\alpha_2'} \right) = \frac{d_0}{d_1 \alpha_2} \left(1 - \frac{1}{1.74} \right)$$

得 α_2

$$\alpha_2' = 3.05 \times 10^3 \text{ W/m}^2 \cdot \text{K}$$

代入(1)式得 α_1

(2) 由于使用一段时间之后，壁面生成垢层，使 K 值下降垢层热阻 R

$$\frac{1}{K_{1,0}'} = \frac{1}{K_{1,0}} + R$$

22. 已知：中空钢球容器， $d_1=0.34\text{m}$, $t_1=38^\circ\text{C}$, $T=100^\circ\text{C}$, $\lambda=45\text{W/m}\cdot\text{K}$, $\alpha=500\text{W/m}^2\cdot\text{K}$,

求： Q_{\max} 和钢球厚度

解题思路：对于所传热量有

$$Q = \frac{\Delta t}{R} = \frac{\Delta t}{\frac{\delta}{\lambda A_m} + \frac{1}{\alpha} \cdot \frac{1}{A}}$$

其中， $\delta = 100 - 38 = 62$, $\delta = r - r_1$, $A_m = 4\pi r r_1$

$$\therefore R = \frac{r - r_1}{4\lambda\pi r r_1} + \frac{1}{\alpha \cdot 4\pi r^2}$$

当 R 最小时必有 Q_{\max}

$$\text{当 } \frac{dR}{dr} = \frac{1}{4\pi} \left(\frac{1}{\lambda r^2} - \frac{2}{\alpha r^3} \right) = 0 \text{ 时}$$

$$\text{得 } r = \frac{2\lambda}{\alpha}, \quad \delta = r - r_1, \quad Q_{\max}$$

23. 已知： $A=16.5\text{m}^2$, $q_{m2}=2.5\text{kg/s}$, $t_1=20^\circ\text{C}$, $t_2=30^\circ\text{C}$, $T=80^\circ\text{C}$, $t_2'=26^\circ\text{C}$,

求：垢层 R

解题思路：新的冷凝器

$$\text{定性温度 } \bar{t} = \frac{1}{2}(t_1 + t_2)$$

查水的 c_p

$$Q = q_{m2} c_{p2} (t_2 - t_1) = KA \Delta t_m = KA \frac{t_2 - t_1}{\ln \frac{T - t_1}{T - t_2}}$$

$$\therefore K = \frac{q_{m2} c_{p2}}{A} \ln \frac{T - t_1}{T - t_2} \quad (1)$$

结垢之后， $\bar{t} = \frac{1}{2}(t_1 + t_2)$, c_p 几乎不变

由(1)式得 K'

若不计温度变化 2 引起的水的物性变化对水一侧的影响，不计由于蒸汽冷凝量变化对蒸汽一侧影响对总阻力的影响，则

$$\frac{1}{K'} = \frac{1}{K} + R, \quad R = \frac{1}{K'} - \frac{1}{K}$$

24. 已知：管子 $25 \times 2.5\text{mm}$ ，苯在管内， $t_1=20$ ， $t_2=55$ ， $q_{m2}=15\text{T/h}$ ， $u_2=0.5\text{m/s}$ ， $C_{p2}=1.76\text{kJ/kg} \cdot ^\circ\text{C}$ ， $\rho_2=858\text{kg/m}^3$ ，管外蒸汽 $T=130$ ， $K=700\text{W/m}^2 \cdot \text{K}$ 。

求： n, L

解题思路： $q_{m2}=15\text{T/h}=4.17\text{kg/s}$

$$q_{m2} = n \cdot \frac{\pi}{4} d^2 \cdot u_2 \cdot \rho_2$$

$$\therefore n = \frac{q_{m2}}{\frac{\pi}{4} d^2 \cdot u_2 \rho_2}$$

$$Q = q_{m2} c_{p2} (t_2 - t_1) = KA \Delta t_m = K \cdot n \pi d_0 \cdot L \cdot \Delta t_m \quad (1)$$

$$\Delta t_m = \frac{t_2 - t_1}{\ln \frac{T - t_1}{T - t_2}}$$

由(1)式得 L

25. 已知：管内气体 $q_{m2}=90\text{kg/h}$ ， $t_1=38$ ， $t_2=138$ ， $d=53\text{mm}$ ， $D=78\text{mm}$ ， $\delta=2.5\text{mm}$ ， $t_w=150$ ， $\mu=0.027\text{mPa} \cdot \text{s}$ ， $P_r=1$

求： L

$$\text{解题思路：} Q = \alpha A \Delta t_m, \quad \Delta t_m = \frac{(t_w - t_1) - (t_w - t_2)}{\ln \frac{t_w - t_1}{t_w - t_2}} = \frac{t_2 - t_1}{\ln \frac{t_w - t_1}{t_w - t_2}}$$

$$Q = q_{m2} c_{p2} (t_2 - t_1)$$

$$\therefore A = \pi d L = \frac{q_{m2} c_{p2} (t_2 - t_1)}{\alpha \Delta t_m} = \frac{q_{m2} c_{p2}}{\alpha} \ln \frac{t_w - t_1}{t_w - t_2} \quad (1)$$

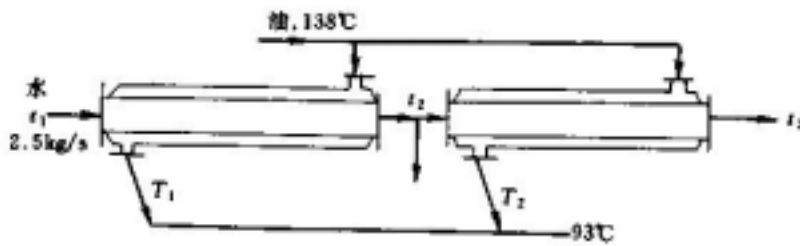
$$\text{Re} = \frac{dG}{\mu} = \frac{q_{m2}}{\frac{\pi}{4} d \mu}$$

$$\alpha = 0.023 \frac{\lambda}{d} \text{Re}^{0.8} \text{Pr}^{0.4} = 0.023 \frac{c_P \mu}{d \text{Pr}} \text{Re}^{0.8} \text{Pr}^{0.4}$$

代入(1)式得

$$L = \frac{q_{m2} c_{p2}}{\pi d \alpha} \ln \frac{t_w - t_1}{t_w - t_2}$$

26. 已知： $A_1=A_2=A$ ， $K_1=K_2=450\text{W/m}^2\cdot\text{K}$ ， $c_{p1}=2.1\text{kJ/kg}\cdot\text{K}$ ， $T_1=138^\circ\text{C}$ ， $T_2=93^\circ\text{C}$ ， $t_1=25^\circ\text{C}$ ， $t_2=50^\circ\text{C}$ ， $t_3=65^\circ\text{C}$ ， $q_{m2}=2.5\text{kg/s}$ ， $q_{m6}=0.62\text{kg/s}$ ，求： q_{m5} ， A



解题思路：

(1) 水的定性温度 $\bar{t} = \frac{1}{2}(t_1 + t_3)$ 下 c_{p2}

$$q_{m4} = q_{m2} - q_{m6} = 2.5 - 0.62 = 1.88\text{kg/s}$$

作总的能量衡算有 $q_{m5}c_{p1}(T_1 - T_2) = q_{m2}c_{p2}(t_2 - t_1) + q_{m4}c_{p2}(t_3 - t_2)$

$$\therefore q_{m5} = \frac{q_{m2}(t_2 - t_1) + q_{m4}(t_3 - t_2)}{c_{p1}(T_1 - T_2)} c_{p2}$$

(2) 由质量衡算 $q_{m5} = q_{m1} + q_{m3} = 4.0$ (1)

由热量衡算 $q_{m2}c_{p2}(t_2 - t_1) = q_{m1}c_{p1}(T_1 - T_3)$ (2)

$$q_{m4}c_{p2}(t_3 - t_2) = q_{m3}c_{p1}(T_1 - T_4)$$
 (3)

$$\Delta t_{m1} = \frac{(T_1 - t_2) - (T_3 - t_1)}{\ln \frac{T_1 - t_2}{T_3 - t_1}}$$

$$\Delta t_{m2} = \frac{(T_1 - t_3) - (T_4 - t_2)}{\ln \frac{T_1 - t_3}{T_4 - t_2}}$$

$$\frac{\Delta t_{m1}}{\Delta t_{m2}} = \frac{Q_1 / K_1 A_1}{Q_2 / K_2 A_2} = \frac{Q_1}{Q_2}$$
 (4)

联立(1)(2)(3)(4)可解得

T_3, T_4, q_{m1}, q_{m3} ,

$$\therefore Q_1 = q_{m2}c_{p2}(t_1 - t_2) = KA\Delta t_{m1}$$

得 A

27. 已知： $q_{m1}=1.5\text{kg/s}$ ， $r=395\text{kJ/kg}$ ， $T=60^\circ\text{C}$ ，管束 n 根 $25 \times 2.5\text{mm}$ ，管内河水 $t_1=25^\circ\text{C}$ ，不计管外冷凝、管壁、垢层热阻， $N_p=1$

求：(1) q_{m2}

(2) n, L ($u=1\text{m/s}$)

(3) n 不变， $N_p'=2$ ， q_{m1}'

解题思路：(1) 从 $t_m > 10^\circ\text{C}$ 及防止水中盐类析出为原则，选 t_2

$$\bar{t} = (t_1 + t_2) / 2$$

查附录得 λ, c_{p2}, μ, Pr
 由热量衡算得 $q_{m1}r = q_{m2}C_{p2}(t_2 - t_1)$

$$q_{m2} = \frac{q_{m1} \cdot r}{c_{p2}(t_2 - t_1)}$$

(2) 取水在管内流速为 1m/s 左右，则

$$n = \frac{q_{m2}}{0.785d^2 \rho u}$$

取 n

$$G = \rho u = \frac{q_{m2}}{0.785d^2 n}$$

$$Re = \frac{dG}{\mu}$$

$$\alpha = 0.023 \frac{\lambda}{d} Re^{0.8} Pr^{0.4}$$

由题意知 $K \approx \alpha$

由传热速率式： $q_{m2}C_{p2}(t_2 - t_1) = KA \frac{t_2 - t_1}{\ln \frac{T - t_1}{T - t_2}}$

得 $\frac{T - t_1}{T - t_2} = \exp\left(\frac{KA}{q_{m2}C_{p2}}\right)$ (1)

即 $A = \frac{q_{m2}C_{p2}}{K} \ln \frac{T - t_1}{T - t_2}$

$$L = \frac{A}{n\pi d}$$

验 $L/d > 30 \sim 40$

(3) 改为双管程，流速变化， K 也变化

$$K = \alpha \propto u^{0.8} \propto N_p^{0.8}$$

$$\therefore \frac{K'}{K} = \left(\frac{N_p'}{N_p}\right)^{0.8} \quad \therefore K' = \alpha^{0.8} K = 1.74K$$

由 (1) 式得

$$\frac{T - t_1}{T - t_2'} = \exp\left(\frac{K'A}{q_{m2}C_{p2}}\right) = \exp\left(\frac{1.74KA}{q_{m2}C_{p2}}\right) = \left(\frac{T - t_1}{T - t_2}\right)^{1.74}$$

得 t_2'

$$q_{m1}r = q_{m2}C_{p2}(t_2 - t_1)$$

$$\therefore \frac{q'_{m1}}{q_{m1}} = \frac{t_2' - t_1}{t_2 - t_1}$$

28. 已知： $A=20\text{m}^2$ ， $T=100$ ， $t_1=40$ ， $q_{m2}=0.917\text{kg/s}$ ， $c_{p2}=4000\text{J/kg} \cdot$ ，
 $K=125\text{W/m}^2 \cdot$

求：水蒸汽量 q_m

解题思路：查 100 水蒸汽， $r=2258\text{kJ/kg}$

$$Q = q_{m2} C_{p2} (t_2 - t_1) = KA \frac{t_2 - t_1}{\ln \frac{T - t_1}{T - t_2}} = q_m r$$

$$\therefore \frac{T - t_2}{T - t_1} = \exp\left(-\frac{KA}{q_{m2} C_{p2}}\right), \text{ 得 } t_2$$

$$q_m = \frac{q_{m2} C_{p2} (t_2 - t_1)}{r}$$

29. 已知：内管 $19 \times 3\text{mm}$ ， $L=2\text{m}$ ，逆流， $q_{m1}=270\text{kg/h}$ ， $T_1=100$ ，
 $c_{p1}=1.88\text{kJ/kg} \cdot$ ， $q_{m2}=360\text{kg/h}$ ， $t_1=10$ ， $K_2=374\text{W/m}^2 \cdot$

求： T_2 、 t_2

解题思路：水的定性温度未知，选取水的比热 $C_{p2}=4.18\text{kJ/kg} \cdot$

$$\text{解法 1：由热效率公式 } \varepsilon_1 = \frac{1 - \exp[-NTU_1(1 - R_1)]}{R_1 - \exp[-NTU_1(1 - R_1)]}$$

$$R_1 = \frac{q_{m1} c_{p1}}{q_{m2} c_{p2}} = \frac{270 \times 1.88}{360 \times 4.18} = 0.337$$

$$NTU_1 = \frac{K_2 A_2}{q_{m1} c_{p1}}$$

$$\text{得 } \frac{T_1 - T_2}{T_1 - t_1} = \varepsilon_1$$

得 T_2

$$q_{m1} c_{p1} (T_1 - T_2) = q_{m2} c_{p2} (t_2 - t_1)$$

$$\therefore t_2 = \frac{q_{m1} c_{p1}}{q_{m2} c_{p2}} (T_1 - T_2) + t_1$$

解法 2：由热量衡算

$$Q = q_{m1} c_{p1} (T_1 - T_2) = q_{m2} c_{p2} (t_2 - t_1)$$

$$\therefore \frac{T_1 - T_2}{t_2 - t_1} = \frac{(q_m c_p)_2}{(q_m c_p)_1}$$

$$\text{由速率方程式 } Q = q_{m1}c_{p1}(T_1 - T_2) = K_2A_2 \frac{(T_1 - t_2) - (T_2 - t_1)}{\ln \frac{T_1 - t_2}{T_2 - t_1}}$$

$$\therefore \ln \frac{T_1 - t_2}{T_2 - t_1} = \frac{K_2A_2}{q_{m1}c_{p1}} \left[1 - \frac{t_2 - t_1}{T_1 - T_2} \right] = \frac{K_2A_2}{q_{m1}c_{p1}} \left[1 - \frac{(q_m c_P)_1}{(q_m c_P)_2} \right]$$

由 $\frac{T_1 - T_2}{t_2 - t_1}$, $\frac{T_1 - t_2}{T_2 - t_1}$, 而得出 T_2 , t_2

查 $\bar{t} = \frac{1}{2}(t_1 + t_2)$ 下的水 c_P , 偏差不大, 计算有效。

30. 已知: 饱和水蒸汽, $T=110$, $t_1=30$, $t_2=100$, $q'_{m2}=1.5q_{m2}$,

求: (1) t_2'

(2) 保持 $t_2'=100$ 的措施

解题思路: (1) 由传热速率式 $Q = q_{m2}c_{p2}(t_2 - t_1) = KA \frac{t_2 - t_1}{\ln \frac{T - t_1}{T - t_2}}$

$$\text{得 } \frac{T - t_1}{T - t_2} = \exp\left(\frac{KA}{q_{m2}c_{p2}}\right) \quad (1)$$

$$\frac{T - t_1}{T - t_2'} = \exp\left(\frac{K'A}{q'_{m2}c_{p2}}\right)$$

饱和水蒸汽冷凝的热阻, 管壁热阻可忽略

$$\therefore K = \alpha_2 \propto q_{m2}^{0.8}$$

$$\therefore K' = \left(\frac{q'_{m2}}{q_{m2}}\right)^{0.8} \cdot K = 1.5^{0.8} \cdot K$$

$$\therefore \frac{T - t_1}{T - t_2'} = \exp\left(\frac{1.5^{0.8} KA}{1.5q_{m2}c_{p2}}\right) = \exp\left(0.922 \frac{KA}{q_{m2}c_{p2}}\right) = \left(\frac{T - t_1}{T - t_2}\right)^{0.922}$$

得 t_2'

(2) 可以采用提高饱和水蒸汽的压强, 即提高 T 的方法来维持 $t_2'=100$

$$\exp\left(\frac{K'A}{q'_{m2}c_{p2}}\right) \text{ 不变}$$

$$\therefore \frac{T' - t_1}{T' - t_2} = \exp\left(\frac{K'A}{q'_{m2}c_{p2}}\right)$$

得 T' , 查对应蒸汽压强 P 。

31. 已知：A=0.4m²，油在管内 T₁=75，T₂=65，冷却水在环隙，t₁=30，t₂=45，k=4000W/m²·S，d=25mm，c_{p1}=0.56W/m·S，μ=1.8mPa·S，c_p=2070J/kg·S，管壁热阻可忽略

求：q_{m1,max}

解题思路：当 T₂ 达到规定的 65 时，q_{m1} 即为最大，实际操作中若再加大 q_{m1}，则 T₂ 将达不到要求

$$\therefore q_{m1,max} \times c_{p1}(T_1 - T_2) = KA\Delta t_m$$

$$q_{m1,max} \text{ 与 } K \text{ 关系} \quad (1)$$

$$Re = \frac{dG}{\mu} = \frac{4q_{m1,max}}{\pi d\mu}$$

$$Pr = \frac{C_p\mu}{\lambda}$$

$$\alpha_1 = 0.023 \frac{\lambda}{d} Re^{0.8} Pr^{0.3} \text{ 含 } q_{m1}$$

$$\frac{1}{K} = \frac{1}{\alpha_1} + \frac{1}{\alpha_2} \text{ 含 } \frac{1}{q_{m1,max}^{0.8}}$$

代入(1)式试差解得 q_{m1,max}

32. 已知：T₁=100，t₁=40，并流时 T₂=80，t₂=60，

求：逆流操作 T₂'，t₂'

$$\text{解题思路：并流时 } \frac{q_{m1}c_{p1}}{q_{m2}c_{p2}} = \frac{t_2 - t_1}{T_1 - T_2}$$

$$\text{而 } q_{m1}c_{p1}(T_1 - T_2) = KA \frac{(T_1 - t_1) - (T_2 - t_2)}{\ln \frac{T_1 - t_1}{T_2 - t_2}}$$

$$\frac{KA}{q_{m1}c_{p1}} = \frac{(T_1 - T_2) \ln \frac{T_1 - t_1}{T_2 - t_2}}{(T_1 - t_1) - (T_2 - t_2)}$$

$$\text{逆流时 } \frac{q_{m1}c_{p1}}{q_{m2}c_{p2}} = \frac{t_2' - t_1}{T_1 - T_2'}$$

$$t_1 = T_1 - t_2' = T_2' - t_1 = t_2$$

$$t_m = \frac{t_1 + T_1 - t_2'}{2} = \frac{t_2 + T_2' - t_1}{2} \quad (1)$$

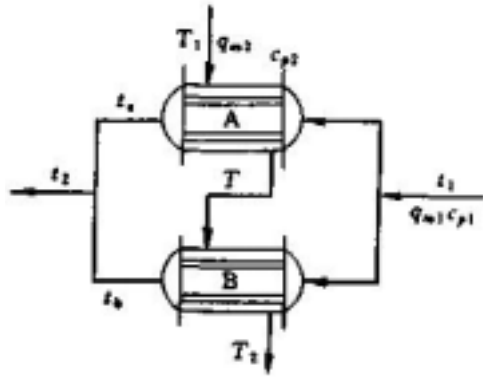
$$q_{m1}c_{p1}(T_1 - T_2') = KA \quad t_m = KA(T_2' - t_1)$$

$$\therefore T_1 - T_2' = \frac{KA}{q_{m1}c_{p1}}(T_2' - t_1)$$

得 T_2' ，代入 (1) 式得 t_2'

33. 已知： $K_a = K_b$ ， $A_a = A_b$ ， $q_{m2a} = q_{m2b}$ ， $T_1 = 150$ ， $T_2 = 40$ ， $t_1 = 30$ ， $t_2 = 90$

求： T ， t_a ， t_b



解题思路：运用消元法

$$\ln \frac{T_1 - t_2}{T_2 - t_1} = \frac{KA}{q_{m1}c_{p1}} \left(1 - \frac{q_{m1}c_{p1}}{q_{m2}c_{p2}}\right)$$

$$\text{对 A: } \ln \frac{T_1 - t_a}{T - t_1} = \frac{KA}{q_{m1}c_{p1}} \left(1 - \frac{q_{m1}c_{p1}}{q_{m2a}c_{p2}}\right)$$

$$\text{对 B: } \ln \frac{T - t_b}{T_2 - t_1} = \frac{KA}{q_{m1}c_{p1}} \left(1 - \frac{q_{m1}c_{p1}}{q_{m2b}c_{p1}}\right)$$

$$\therefore \frac{T_1 - t_a}{T - t_1} = \frac{T - t_b}{T_2 - t_1} \quad (1)$$

$$\text{热量衡算：对 A } \frac{(q_m c_p)_1}{(q_m c_p)_{2a}} = \frac{t_a - t_1}{T_1 - T}$$

$$\text{对 B } \frac{(q_m c_p)_1}{(q_m c_p)_{2b}} = \frac{t_b - t_1}{T - T_2}$$

$$\therefore \frac{t_a - 30}{150 - T} = \frac{t_b - 30}{T - 40} \quad (2)$$

由冷流体交汇点热量衡算得

$$t_2 = \frac{1}{2}(t_a + t_b) = 90 \quad (3)$$

联立(1)(2)(3)式可得

T ， t_a ， t_b ，

34. 已知：带搅拌夹套加热釜， $T=120$ 蒸汽， $t_1=25$ ， $\tau=2$ 时 $t_2=110$ ， $\tau'=2$ 时釜内温度均匀， K 、 A 为常数

求： t_2'

解题思路：由速率式 $Q=KA(T-t)$

$$\text{热量衡算式， } Q = Gc_p \frac{dt}{d\tau}$$

$$\text{得 } d\tau = \frac{Gc_p}{Q} dt = \frac{Gc_p}{KA} \cdot \frac{dt}{T-t}$$

$$=0, t=t_1, \tau=0 \text{ 时, } t=t_2$$

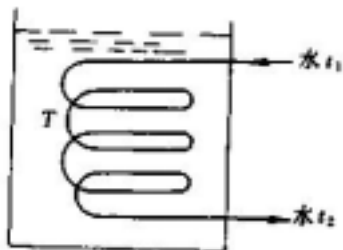
$$\text{积分得 } \tau = \frac{Gc_p}{KA} \ln \frac{T-t_1}{T-t}$$

$$\therefore \frac{\tau'}{\tau} = 2 = \frac{\ln \frac{T-t_1}{T-t_2'}}{\ln \frac{T-t_1}{T-t_2}}$$

得 t_2'

35. 已知： $G=6000\text{kg}$ ， $c_{p1}=4.6\text{kJ/kg} \cdot ^\circ\text{C}$ ， $T_1=100$ ， $T_2=60$ ， $t_1=20$ ， $q_{m2}=1500\text{kg/h}$ ， $A=6\text{m}^2$ ， $K=230\text{W/m}^2 \cdot ^\circ\text{C}$ ， $Q_{\text{损}}=0$ ， $c_{p2}=4.18\text{kJ/kg} \cdot ^\circ\text{C}$ ，槽内液体温度均一。

求：



$$\text{解题思路：由速率式 } q_{m2}c_{p2}(t_2 - t_1) = KA \frac{t_2 - t_1}{\ln \frac{T - t_1}{T - t_2}} \quad (1)$$

$$\text{衡算式 } q_{m2}c_{p2}(t_2 - t_1) = -Gc_{p1} \frac{dT}{d\tau} \quad (2)$$

$$\text{由(1)式得 } t_2 = T(1 - e^{-\frac{KA}{q_{m2}c_{p2}}}) + t_1 e^{\frac{KA}{q_{m2}c_{p2}}}$$

代入(2)式后得

$$\int_0^\tau d\tau = -\frac{Gc_{p1}}{q_{m2}c_{p2}[(1 - \exp(-\frac{KA}{q_{m2}c_{p2}}))]} \int_{T_1}^{T_2} \frac{dT}{T - t_1}$$

$$\tau = \frac{Gc_{p1}}{q_{m2}c_{p2}[1 - \exp(-\frac{KA}{q_{m2}c_{p2}})]} \ln \frac{T_1 - t_1}{T_2 - t_2}$$

36. 已知： $t_1=20$ ， $t_2=50$ ， $T_1=100$ ， $T_2=60$ ，

求：(1) 单壳程，四管程的 t_m

(2) 双壳程，四管程的 t_m

解题思路： $t_m = t_{m逆}$

$$\Delta t_{m逆} = \frac{(T_1 - t_2) - (T_2 - t_1)}{\ln \frac{T_1 - t_2}{T_2 - t_1}}$$

$$R = \frac{T_1 - T_2}{t_2 - t_1}$$

$$P = \frac{t_2 - t_1}{T_1 - t_1}$$

(1) 单壳程，四管程，查 $\phi = f(R, P)$ 图，(教材图 6-57a)

$$t_m = t_{m逆}$$

(2) 双壳程，四管程，查 $\phi = f(R, P)$ 图，(教材图 6-57b)

$$t_m = t_{m逆}$$

37. 已知：煤油走壳程被冷却， $q_{m1}=28700\text{kg/h}$ ， $T_1=230$ ， $T_2=120$ ，

$c_p=2.60\text{kJ/kg}\cdot^\circ\text{C}$ ， $\rho=710\text{kg/m}^3$ ， $\mu=0.32\text{mPa}\cdot\text{S}$ ， $\lambda=0.13\text{W/(m}\cdot\text{K)}$ ，

$D=560\text{mm}$ ，70 根 25×2.5 钢管， $L=6\text{m}$ ， $t=32\text{mm}$ ，三角形排列，挡板

切除 25%， $B=300\text{mm}$

求：煤油的给热系数

解题思路：当 $Re > 2000$ ，25% 圆缺挡板

$$Nu = 0.36 Re^{0.55} Pr^{1/3} \left(\frac{\mu}{\mu_w} \right)^{0.14}$$

$$A' = BD \left(1 - \frac{d_0}{t} \right)$$

$$\therefore u_0 = \frac{q_{m1}}{A' \rho}$$

$$d_e = \frac{4 \left(\frac{\sqrt{3}}{2} t^2 - \frac{\pi}{4} d_0^2 \right)}{\pi d_0^2}$$

$$Re = \frac{d_e u_0 \rho}{\mu}$$

$$\text{Pr} = \frac{c_p \mu}{\lambda}$$

煤油被冷却 $\therefore \left(\frac{\mu}{\mu_w}\right)^{0.14} = 0.95$

$$\therefore \alpha = 0.36 \frac{\lambda}{d_e} \text{Re}^{0.55} \text{Pr}^{1/3} \left(\frac{\mu}{\mu_w}\right)^{0.14}$$

38. 已知：单壳程双管程，管外饱和蒸汽 $T=120$ ，干空气管内 $u_2=12\text{m/s}$ ，
 $38 \times 2.5\text{mm}, n=200, t_1=26$ ， $t_2=86$ ，

求：(1)L

(2) q_{m2} , t_1 , L 不变，管子变为 $54 \times 2\text{mm}, n'=80\%n$, t_2'

解题思路： $\bar{t} = \frac{1}{2}(26+86) = 56$

查 56 干空气， $c_p=1.0\text{kJ/kg} \cdot$ ， $\rho=1.07\text{kg/m}^3$ ， $\lambda=0.0286\text{W/m} \cdot \text{K}$ ，
 $\mu=1.99 \times 10^{-5}\text{Pa} \cdot \text{S}$ ， $\text{Pr}=0.697$

$$(1) q_{m2} = \frac{n}{2} \times \frac{\pi}{4} d^2 \times \rho \cdot u$$

$$Q = q_{m2} c_{p2} (t_2 - t_1)$$

$$\text{Re} = \frac{du\rho}{\mu}$$

$$\therefore \alpha_2 = 0.023 \frac{\lambda}{d} \text{Re}^{0.8} \text{Pr}^{0.4}$$

管外蒸汽冷凝， $t_1 \gg t_2$ ， $K = \alpha_2$

$$Q = KA \Delta t_m$$

$$\Delta t_m = \frac{t_2 - t_1}{\ln \frac{T - t_1}{T - t_2}}$$

$$A = n \cdot \pi d L$$

$$\therefore L = \frac{Q}{K \cdot n \pi d \Delta t_m}$$

(2) q_{m2} 不变 $\therefore u \propto \frac{1}{nd^2}$

$$K = \alpha_2 \propto \frac{u^{0.8}}{d^{0.2}} \propto \frac{1}{n^{0.8} d^{1.8}}$$

$$\therefore \frac{K'}{K} = \left(\frac{n}{n'}\right)^{0.8} \left(\frac{d}{d'}\right)^{1.8}$$

$$\frac{A'}{A} = \frac{n'd'}{nd}$$

$$q_{m2}c_{p2}(t_2 - t_1) = KA \frac{t_2 - t_1}{\ln \frac{T - t_1}{T - t_2}}$$

$$\therefore \frac{T - t_1}{T - t_2} = \exp\left(\frac{KA}{q_{m2}c_{p2}}\right)$$

$$\therefore \frac{T - t_1}{T - t_2'} = \exp\left(\frac{K'A'}{q_{m2}c_{p2}}\right) = \exp\left(\frac{0.566 \times 1.21 \times KA}{q_{m2}c_{p2}}\right) = \left(\frac{T - t_1}{T - t_2}\right)^{0.685}$$

得 t_2'

39. 已知：乙醇蒸汽 $q_{m1}=3000\text{kg/h}$ ， $t_1=30$ ， $t_2=40$ ， $T=78$ ， $r_1=925\text{kJ/kg}$ ， $i_1=1660\text{W/m}^2 \cdot \text{K}$ ，

试设计一列管式换热器，设计内容：

- (1) N_P ， N_T ， L
- (2) 管子排列
- (3) 壳体内径

解题思路：热负荷 $Q = q_{m1}r_1$

由于乙醇无腐蚀性可走壳程，水走管程

水的定性温度 $\bar{t} = \frac{1}{2}(t_1 + t_2)$

查水的 c_{p2} ， ρ ， μ ， P_r

$$q_{m2} = \frac{Q}{c_{p2}(t_2 - t_1)}$$

选用 $25 \times 2.5\text{mm}$ 的钢管，选水的流速， $u=1\text{m/s}$

$$q_{m2} = \frac{N_T}{N_P} \cdot \frac{\pi}{4} d^2 \cdot u \cdot \rho$$

$$\frac{N_T}{N_P} = \frac{4q_{m2}}{\pi d^2 u \rho}$$

取 $\frac{N_T}{N_P}$ ， N_P 得 N_T

可采用三角形排列，如右图所示，等边六角形层数为 a

则交点数 $n_0=1+6(1+2+\dots+a) = 1+3(a+a^2)$

现取 a 为 6 层

则 $n_0=1+3 \times (6+36) = 127$

除去中间双管的隔板位置 13 个交点。

即可安置 $127-13=114$ 根管子。

取管中心间距 $t=32\text{mm}$ (取 $t=1.25d_0$ 后圆整得)

外壳内径 D 的计算：

取外层管中心与壳壁的最小距离为 38mm (取 $1.5d_0$ 后圆整得)

$$D=2a \times t+2 \times 0.038$$

管子长度计算：

$$u = \frac{q_{m2}}{\frac{\pi d^2}{4} \cdot \frac{N_T}{N_P} \cdot \rho}$$

$$\text{Re} = \frac{\rho u d}{\mu}$$

$$\alpha_2 = 0.023 \frac{\lambda}{d} \text{Re}^{0.8} \text{Pr}^{0.4}$$

考虑水的垢层热阻，查教材表 6-6，取 R_2 (取河水)

考虑乙醇蒸汽垢层热阻，查得 R_1

$$\therefore \frac{1}{K} = \frac{1}{\alpha_2} + R_2 + (R_1 + \frac{1}{\alpha_1}) \frac{d}{d_0}$$

得 K (以内表面为基准)

$$\Delta t_m = \frac{t_2 - t_1}{\ln \frac{T - t_1}{T - t_2}}$$

$$Q=KA \quad t_m=KN_T \quad dL \quad t_m$$

$$L = \frac{Q}{K \cdot N_T \pi d \cdot \Delta t_m}$$

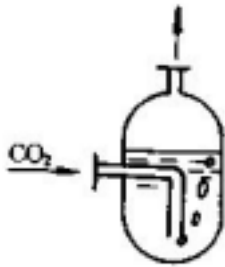
$$\text{故} \quad \frac{A_{\text{实}}}{A_{\text{计}}} = 1.2, \quad \therefore L_{\text{实}} = 1.2L_{\text{计}}$$

解题思路：

1. 已知： $c=2.875 \times 10^{-2} \text{mol/l}$ 溶液， $P=101.3 \text{kPa}$ ， $t=30$ ， $\rho_m=996 \text{kg/m}^3$ 。

求：实验值 E

将此实验值与文献值 $E=188.5 \text{MPa}$ 作比较。



解题思路：查 30 时水的饱和蒸汽压， $P_s=4242.24 \text{Pa}$ 。

长期通入 CO_2 后， $P_e=P-P_s=101.3-4.24=97.1 \text{kPa}$

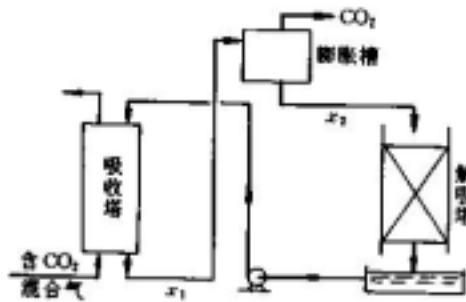
对于稀溶液 $M_m=M_s=18$

$$P_e = Ex = E \cdot \frac{c}{\rho_m / M_m}$$

$$\therefore E = \frac{P_e \cdot \rho_m}{c \cdot M_m}$$

2. 已知： $y_1=0.3$ ， $P_1=1 \text{MPa}$ (表)， $P_2=20 \text{kPa}$ ， $t=25$ ，吸收塔底部达饱和。

求：1kg 水在膨胀槽中放出 CO_2 的量 G 。



解题思路：查 25， $\text{CO}_2\text{-H}_2\text{O}$ 系统， $E=1.66 \times 10^2 \text{MPa}$

设当地大气压为 0.1013MPa

$$P_1=1+0.1013=1.1013 \text{MPa}$$

$$P_2=20 \times 10^3 \times 10^{-6}+0.1013=0.1213 \text{MPa}$$

$$P_e = E \cdot x \quad \therefore x = \frac{P \cdot y}{E}$$

$$x_1 = \frac{P_1 \cdot y_1}{E}$$

$$x_2 = \frac{P_2 \cdot y_2}{E}$$

对稀溶液，其比质量分率 $X = M_{CO_2} \cdot \frac{x}{M_{H_2O}}$

$$\therefore X_1 = 44 \times \frac{x_1}{18}$$

$$\therefore X_2 = 44 \times \frac{x_2}{18}$$

$$G = X_1 - X_2$$

3. 已知： $t=20$ ，用 N_2 逆流吸收溶解于水中的 O_2 ， $y_1=0.001$ 塔底达平衡。

求：(1) $P=101.3\text{kPa}$ (绝) c_{\min} mg/m^3 水

(2) $P=40\text{kPa}$ (绝) c_{\min} mg/m^3 水

解题思路：查 $t=20$ ， O_2 - H_2O 系统， $E=4.062 \times 10^6 \text{kPa}$

$$(1) H = E \frac{M_s}{\rho_s}$$

$$P_{e1} = P_1 \cdot y_1$$

$$P_e = cH$$

$$\therefore c_1 = \frac{P_{e1}}{H}$$

$$c_{\min} = c_1 \times M_{O_2} \times 10^6$$

(2) 同理 $P_{e2} = P_2 \cdot y_1$

$$\therefore c_2 = \frac{P_{e2}}{H}$$

4. 已知： $P=101.3\text{kPa}$ ，用水逆流吸收 Cl_2 ， $y_1=0.01$ ， $x_1=0.8 \times 10^{-5}$

求：(1) $t=20$ ， (x_e-x) ， $(y-y_e)$

(2) $t=40$ ， (x_e-x) ， $(y-y_e)$

解题思路：(1) 查 $t=20$ ， Cl_2 - H_2O 系统， $E=0.537 \times 10^2 \text{MPa}$

$$m = \frac{E}{P}$$

$$x_e = \frac{y}{m}$$

$$y_e = mx$$

液相推动力 (x_e-x)

气相推动力 $(y-y_e)$

(2) 查 40 ， Cl_2 - H_2O 系统， $E=0.8 \times 10^2 \text{MPa}$

$$m = \frac{E}{P}$$

$$x_e = \frac{y}{m}$$

$$y_e = mx$$

液相推动力 ($x_e - x$)

气相推动力 ($y - y_e$)

5. 已知： $P_1=101\text{kPa}$ ， $y=50x$ ， $x_1=2 \times 10^{-4}$ ， $y_1=0.025$ 。

求：若 $P_2=202\text{kPa}$ 求推动力的增加比值。

解题思路： $y_{e1} = m_1 x$

$$x_{e1} = \frac{y}{m_1}$$

算 $(y - y_e)_1$ ， $(x_e - x)_1$

$P_2=202\text{kPa}$ ， $m_2=50/2=25$

$y_{e2} = m_2 x$

$x_{e2} = y/m_2$

算 $(y - y_e)_2$ ， $(x_e - x)_2$

$$\frac{(y - y_e)_2}{(y - y_e)_1}$$

$$\frac{(x_e - x)_2}{(x_e - x)_1}$$

6. 已知： $h=2\text{mm}$ ， $\delta=0.2\text{mm}$ ， $t=20$ ， $P_{A2}=1.33\text{kPa}$ ， $P=101.3\text{kPa}$

求：

解题思路：查 20 时 $D=0.252 \times 10^{-4}\text{m}^2/\text{s}$ ， $\rho_{\text{水}}=998\text{kg}/\text{m}^3$

饱和蒸汽压 $P_{A1}=2.338\text{kPa}$

$P_{B1}=P - P_{A1}$

$P_{B2}=P - P_{A2}$

$$P_{Bm} = \frac{P_{B2} - P_{B1}}{\ln \frac{P_{B2}}{P_{B1}}}$$

$$\frac{P}{P_{Bm}}$$

对恒定的静止空气层厚度有：

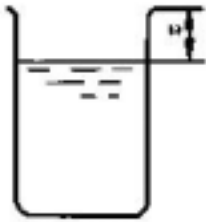
$$N_A \tau = \frac{\rho \cdot h}{M}$$

$$N_A = \frac{D}{RT\delta} \cdot \frac{P}{P_{Bm}} \cdot \frac{1}{(P_{A1} - P_{A2})}$$

得：

$$\tau = \frac{\rho RT \delta h}{MD} \cdot \frac{1}{(P_{A1} - P_{A2})} \cdot \frac{P_{Bm}}{P}$$

7. 已知：t=30， $P_{A2}=0$, $P=101.3\text{kPa}$, $z=1\text{cm}$, $H=4\text{cm}$
求：



解题思路：查 30， $D=0.268\text{cm}^2/\text{s}$ ， $\rho=995.7\text{kg}/\text{m}^3$
饱和蒸汽压， $P_{A1}=4.24\text{kPa}$
 $P_{B1}=101.3-4.24=97.06\text{kPa}$
 $P_{B2}=101.3\text{kPa}$

$$P_{Bm} = \frac{P_{B2} - P_{B1}}{\ln \frac{P_{B2}}{P_{B1}}}, \quad \frac{P}{P_{Bm}}$$

$$N_A \cdot d\tau = \frac{\rho \cdot dh}{M}, \quad \delta = 0.01 + h$$

$$N_A = \frac{D}{RT\delta} \cdot (P_{A1} - P_{A2}) \cdot \frac{P}{P_{Bm}} = \frac{D}{RT\delta} P_{A1} \cdot \frac{P}{P_{Bm}}$$

$$\therefore \int_0^\tau d\tau = \frac{\rho RTP_{Bm}}{MDP_{A1}P} \cdot \int_0^H (0.01 + h) dh$$

$$\therefore \tau = \frac{\rho RTP_{Bm}}{MDP_{A1}P} \left(0.01H + \frac{1}{2} H^2 \right)$$

8. 已知： $G=16\text{kmol}/\text{h} \cdot \text{m}^2$, $P=101.3\text{kPa}$, $k_y a=64.6\text{kmol}/\text{h} \cdot \text{m}^3$,
 $k_L a=16.6\text{kmol}/\text{h} \cdot \text{m}^3$, $P_A=4.62C_A$, (P_A : kPa, C_A : kmol/m^3)

求：(1) $K_y a$, H_{OG}
(2) 液相阻力分率

解题思路：(1) 由亨利定律

$$P = Ex = Hc = Hc_M \cdot x$$

$$y = mx$$

$$\therefore m = Hc_M / P = \frac{4.62}{101.3} c_M = 0.0456 c_M$$

$$k_{XA} = k_L a c_M$$

$$\therefore \frac{m}{k_x a} = \frac{0.0456 c_M}{16.6 c_M}$$

$$\frac{1}{K_y a} = \frac{1}{k_y a} + \frac{m}{k_x a}$$

得 $K_y a$

$$H_{OG} = \frac{G}{K_y a}$$

(2) 液相阻力占总阻力之百分数为

$$\frac{m / k_x a}{1 / k_y a}$$

9. 已知 $y=0.05$, $x=0.01$, $k_x=8 \times 10^{-4} \text{ kmol/s} \cdot \text{m}^2$, $k_y=5 \times 10^{-4} \text{ kmol/s} \cdot \text{m}^2$, $P=101.3 \text{ kPa}$
时 $y=2x$,

求：(1) N_A ($\text{kmol/s} \cdot \text{m}^2$)

(2) $P'=162 \text{ kPa}$, N_A'

解题思路：(1) $\frac{1}{K_y} = \frac{m}{k_x} + \frac{1}{k_y}$

$$K_y = \frac{1}{\frac{m}{k_x} + \frac{1}{k_y}}$$

$$y_e = mx$$

$$N_A = K_y (y - y_e)$$

(2) $P'=162 \text{ kPa}$

$$m' = \frac{P}{P'} \cdot m$$

又根据经验式 $Sh=0.023Re^{0.83}Sc^{0.33}$

$$\text{得 } k = 0.023 \frac{D}{d} \cdot \left(\frac{dG}{\mu}\right)^{0.33} \left(\frac{\mu}{\rho D}\right)^{0.33} (\text{kmol/s} \cdot \text{m}^2 \left(\frac{\text{kmol}}{\text{m}^3}\right))$$

$$\text{气体 } \rho \propto P, D \propto \frac{1}{P}, c = \frac{n}{V} = \frac{P}{RT} \cdot y$$

$$\therefore k \propto \frac{1}{P} \quad \text{而 } k_y = \frac{P}{RT} k$$

即 k_y 与 P 无关

$$P \quad m \quad (y-y_e)$$

$$\text{由 } K_y = \frac{1}{\frac{m}{k_x} + \frac{1}{k_y}} \uparrow$$

$$\text{传质速率增加了 } \frac{N_A' - N_A}{N_A}$$

$$10. \text{ 已知: } \frac{1}{K_y} = \frac{m}{k_x} + \frac{1}{k_y}$$

$$\text{求证: } N_{OL} = \frac{1}{A} N_{OG}$$

$$\text{解题思路: } \frac{1}{K_y a} = \frac{m}{k_x a} + \frac{1}{k_y a}$$

$$\frac{1}{K_y a} = \frac{m}{k_x a} + \frac{1}{k_y a}$$

$$\text{同理可得 } \frac{1}{K_x a} = \frac{1}{k_x a} + \frac{1}{m k_y a}$$

$$\text{即 } K_x a = m K_y a$$

$$\text{得 } H_{OG} = \frac{G}{K_y a} = \frac{L}{K_x a / m} \cdot \frac{G}{L} = H_{OL} \cdot \frac{m}{L/G} = \frac{1}{A} H_{OL}$$

$$H = H_{OG} \cdot N_{OG} = H_{OL} \cdot N_{OL}$$

$$11. \text{ 已知: } y_1 = y_1 - y_{1e}, \quad y_2 = y_2 - y_{2e}$$

$$\text{求证: } N_{OG} = \frac{1}{1 - \frac{mG}{L}} \ln \frac{\Delta y_1}{\Delta y_2}$$

解题思路：由物料衡算得

$$x = x_2 + \frac{G}{L}(y - y_2)$$

低浓度吸收 $y_e = mx$

$$y_e = mx_2 + \frac{mG}{L}(y - y_2)$$

$$N_{OG} = \int_{y_2}^{y_1} \frac{dy}{y - y_e} = \int_{y_2}^{y_1} \frac{1}{y - mx_2 - \frac{mG}{L}(y - y_2)} dy$$

$$= \int_{y_2}^{y_1} \frac{dy}{(1 - \frac{mG}{L})y + (\frac{mG}{L}y_2 - mx_2)}$$

$$= \frac{1}{1 - \frac{mG}{L}} \ln \frac{(1 - \frac{mG}{L})y_1 + \frac{mG}{L}y_2 - mx_2}{y_2 - mx_2}$$

代入 $L(x_1 - x_2) = G(y_1 - y_2)$

12. 已知： $x_2=0$ 逆流， $\eta = \frac{y_1 - y_2}{y_1}$ $\frac{L}{G} = \beta(\frac{L}{G})_{\min}$

求： $N_{OG}=f(\quad , \quad)$

解题思路： $(\frac{L}{G})_{\min} = \frac{y_1 - y_2}{x_{1e} - x_2} = \frac{y_1 - y_2}{y_1/m - 0} = m \cdot \eta$

$$\frac{L}{G} = \beta(\frac{L}{G})_{\min} = \beta m \eta$$

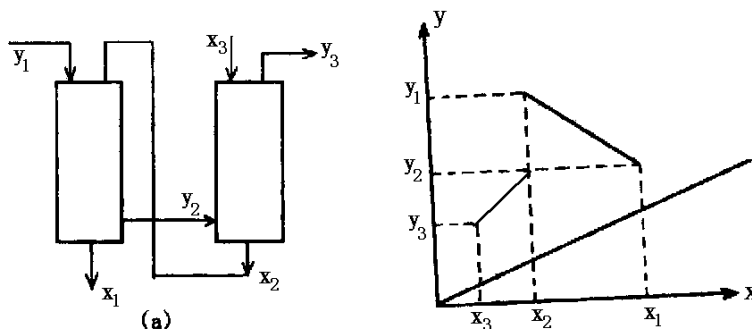
$$N_{OG} = \frac{1}{1 - \frac{1}{A}} \ln \left[\left(1 - \frac{1}{A}\right) \frac{y_1 - mx_2}{y_2 - mx_2} + \frac{1}{A} \right]$$

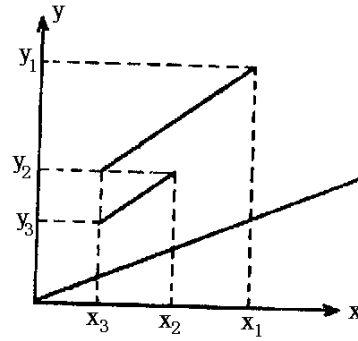
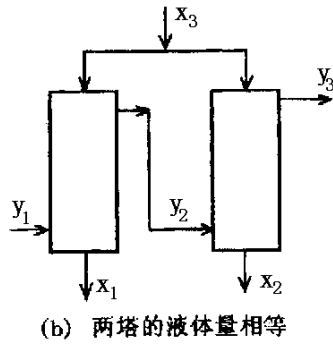
$$\frac{1}{A} = \frac{m}{L/G} = \frac{m}{\beta \eta m} = \frac{1}{\beta \eta}$$

$$\frac{y_1 - mx_2}{y_2 - mx_2} = \frac{y_1}{y_2} = \frac{1}{1 - \eta}$$

13. 画操作线与平衡线

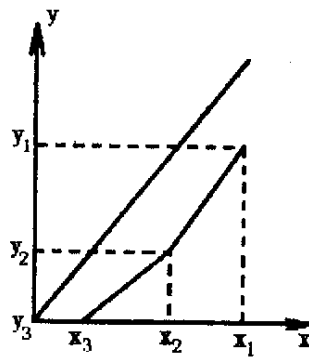
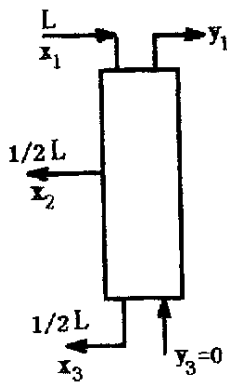
解题思路：对于流程 a 和流程 b，均有 $(\frac{L}{G})_A = (\frac{L}{G})_B$





14. 画操作线与平衡线

解题思路：对于该流程 $(\frac{G}{L})_{上} = 0.5(\frac{G}{L})_{下}$



15. 已知： $G=0.014\text{kmol/s} \cdot \text{m}^2$, $y_1=0.02$, $\eta=0.95$, $x_2=0.0004$, $\frac{L}{G} = 1.5(\frac{L}{G})_{\min}$

$$K_y a = 0.052 \text{kmol/s} \cdot \text{m}^3, y = 1.2x$$

- 求：(1) x_1
 (2) y_m
 (3) H

解题思路：(1) $\eta = \frac{y_1 - y_2}{y_1}$

$$y_2 = y_1(1 - \eta)$$

$$(\frac{L}{G})_{\min} = \frac{y_1 - y_2}{x_{1e} - x_2} = \frac{y_1 - y_2}{y_1/m - x_2}$$

$$\therefore \frac{L}{G} = 1.5(\frac{L}{G})_{\min}$$

根据物料衡算

$$G(y_1 - y_2) = L(x_1 - x_2)$$

$$\therefore x_1 = x_2 + \frac{G}{L}(y_1 - y_2)$$

$$(2) \Delta y_1 = y_1 - mx_1$$

$$\Delta y_2 = y_2 - mx_2$$

$$\Delta y_m = \frac{\Delta y_1 - \Delta y_2}{\ln \frac{\Delta y_1}{\Delta y_2}}$$

$$(3) N_{OG} = \frac{y_1 - y_2}{\Delta y_m}$$

$$H_{OG} = \frac{G}{K_y a}$$

$$H = H_{OG} \cdot N_{OG}$$

16. 已知： $x_2=0$, $L=1.3L_{\min}$, $H_{OG}=0.8m$

求：(1) $\eta = 0.9$, H

(2) $\eta = 0.99$, H

(3) 比较(1)(2)的 L

解题思路：(1) $(\frac{L}{G}) = 1.3(\frac{L}{G})_{\min}$

$$(\frac{L}{G})_{\min} = \frac{y_1 - y_2}{x_{1e} - x_2} = \frac{y_1 - y_2}{y_1/m} = m\eta$$

$$\therefore \frac{1}{A} = \frac{m}{L/G} = \frac{m}{1.3m\eta}$$

$$N_{OG} = \frac{1}{1 - \frac{mG}{L}} \ln \left[\left(1 - \frac{mG}{L}\right) \frac{1}{1 - \eta} + \frac{mG}{L} \right]$$

$$H = N_{OG} \cdot H_{OG}$$

(2) $\eta' = 0.99$

$$\frac{1}{A'} = \frac{1}{1.3\eta}$$

$$N_{OG}' = \frac{1}{1 - \frac{1}{A'}} \ln \left[\left(1 - \frac{1}{A'}\right) \frac{1}{1 - \eta'} + \frac{1}{A'} \right]$$

$$H' = N_{OG}' \cdot H_{OG}$$

(3) 比较(1)(2)可知，当回收率提高，则吸收剂用量为原来的

$$\frac{1.3 \times 0.99 \times m}{1.3 \times 0.9 \times m} = 1.1 \text{ (倍)} \text{ 由 } L/G=1.3m \text{ 可知，吸收剂用量与回收率 成正比。}$$

17. 已知： $x_1=2.5 \times 10^{-5}$ ，在 101.3kPa, 25 下解吸， $y=545x$ ， $L'=5000\text{kg}/\text{m}^2 \cdot \text{h}$ ， $y_2=0$

求：(1) 达 $x_2=0.1 \times 10^{-5}$ ， G_{\min}

(2) $G=0.40\text{kmol}/\text{m}^2 \cdot \text{h}$ ， $H=$ 时， $x_2=?$ ，并画出操作线。

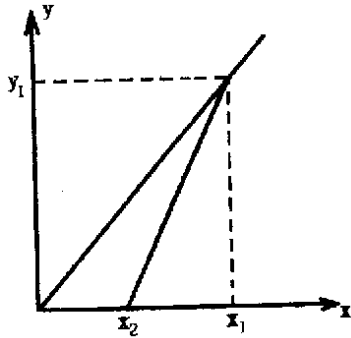
解题思路：(1) $L = \frac{L'}{M} = \frac{5000}{18} = 278\text{kmol}/\text{m}^2 \cdot \text{h}$

$$\left(\frac{G}{L}\right)_{\min} = \frac{x_1 - x_2}{y_{1e} - y_2} = \frac{x_1 - x_2}{mx_1 - 0} = \frac{2.5 \times 10^{-5} - 0.1 \times 10^{-5}}{545 \times 2.5 \times 10^{-5}} = 1.76 \times 10^{-3}$$

$$G_{\min} = \left(\frac{G}{L}\right)_{\min} \times L = 1.76 \times 10^{-3} \times 278 = 0.489\text{kmol}/\text{m}^2 \cdot \text{h}$$

(2) $L/G=278/0.4=695>m=545$

此时塔高不受限制，则可在塔顶达到汽液平衡



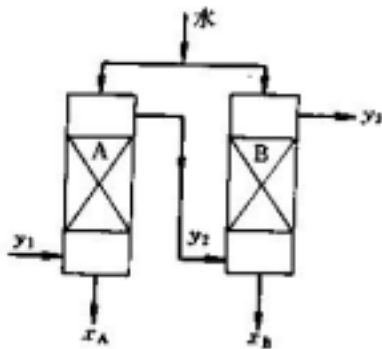
则 $y_1=mx_1$

物料衡算： $G(y_1-y_2)=L(x_1-x_2)$

$$x_2 = x_1 - \frac{G}{L}(y_1 - y_2)$$

18. 已知： $x_2=0$ ， $\eta_{\text{总}}=0.91$ ， $L_A=L_B=1.43L_{\min}$ ， $H_{OGA}=H_{OGB}=1.2\text{m}$

求： H_A ， H_B



解题思路： $\left(\frac{L}{G}\right)_{\min} = \frac{y_1 - y_2}{x_{1e} - x_2} = m \eta$

$$\left(\frac{L}{G}\right)_A = \left(\frac{L}{G}\right)_B = 1.43 \left(\frac{L}{G}\right)_{\min} = 1.43m \eta$$

$$\eta_A = \eta_B = \eta = \frac{y_1 - y_2}{y_1} = \frac{y_2 - y_3}{y_2}$$

$$\begin{aligned} \text{又 } \eta_{\text{总}} &= \frac{y_1 - y_3}{y_1} = 1 - \frac{y_3}{y_1} = 1 - \frac{y_3}{y_2} \cdot \frac{y_2}{y_1} \\ &= 1 - (1 - \eta_A)(1 - \eta_B) \\ &= 1 - (1 - \eta)^2 \end{aligned}$$

$\eta_{\text{总}} = 0.91$, 代入得 $\eta_A = \eta_B =$

$$\left(\frac{L}{G}\right)_A = \left(\frac{L}{G}\right)_B = 1.43m\eta = m$$

说明操作线与平衡线斜率相等，即推动力处处相等。

$$N_{OG} = \frac{y_1 - y_2}{\Delta y_m}$$

$$\text{由 } N_{OGA} = \frac{y_1 - y_2}{y_2 - mx_2} = \frac{\eta}{1 - \eta}, \quad N_{OGB} = \frac{y_2 - y_3}{y_3 - mx_2} = \frac{\eta}{1 - \eta}$$

$$\therefore N_{OGA} = N_{OGB}$$

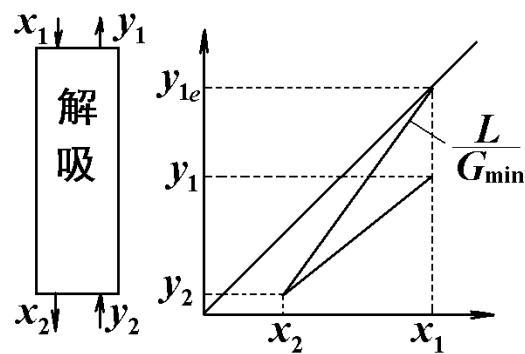
$$\therefore H_A = H_{OGA} \cdot N_{OGA}$$

$$H_B = H_{OGB} \cdot N_{OGB}$$

19. 已知： $x_1 = 0.05$, $y_1 = 0.97$, $y_2' = 0$, $G = 1.3G_{\min}$, $H_{OG} = 0.3$, $y = 2.8x$,

求： H

解题思路：变量如图所示，



$$\eta = \frac{x_1 - x_2}{x_1} = 1 - \frac{x_2}{x_1}, \quad \text{得 } x_2$$

$$\frac{L}{G_{\min}} = \frac{y_{1e}' - y_2'}{x_1 - x_2} = \frac{mx_1}{x_1 - x_2}$$

$$\frac{L}{G} = \frac{L}{1.3G_{\min}}$$

根据物料衡算

$$G(y_1 - y_2) = L(x_1 - x_2)$$

$$\therefore y'_1 = y'_2 + \frac{L}{G}(x_1 - x_2)$$

$$\Delta y_1 = mx_1 - y'_1$$

$$\Delta y_2 = mx_2 - y'_2$$

$$\Delta y_m = \frac{\Delta y_1 - \Delta y_2}{\ln \frac{\Delta y_1}{\Delta y_2}}$$

$$N_{OG} = \frac{y'_1 - y'_2}{\Delta y_m}$$

$$H = H_{OG} \cdot N_{OG}$$

20. 已知：H=5m, D=1m, $x_2=0$, $q_v=2250\text{m}^3/\text{h}$, $y_1=0.05$, $y_2=0.0026$,
 $x_1=60\text{g 丙酮}/\text{kg 水}$, $P=101.3\text{kPa}$, $T=25$, $y=2x$

求：(1) H_{OG} , $K_y a$

(2) w (回收丙酮量/小时)

解：(1) $M_{\text{丙酮}}=58$, $x_1 = \frac{60/58}{60/58 + 1000/18} = 0.0183$

$$G' = \frac{q_v}{22.4} \cdot \frac{T_0}{T}$$

$$G = \frac{G'}{A}$$

$$N_{OG} = \frac{1}{1 - \frac{1}{A}} \ln \left[\left(1 - \frac{1}{A}\right) \frac{y_1 - mx_2}{y_2 - mx_2} + \frac{1}{A} \right]$$

物料衡算： $G(y_1 - y_2) = L(x_1 - x_2)$

$$\frac{L}{G} = \frac{y_1 - y_2}{x_1}$$

$$\frac{1}{A} = \frac{m}{L/G}$$

得 N_{OG}

$$H_{OG} = \frac{H}{N_{OG}}$$

$$H_{OG} = \frac{G}{K_y a}$$

$$K_y a = \frac{G}{H_{OG}}$$

(2) $w = G'(y_1 - y_2)$

21. 已知： $H = 2.7\text{m}$, $P = 101.3\text{kPa}$, $x_2 = 0$, $G = 0.03\text{kmol/m}^2 \cdot \text{s}$, $L = 0.018\text{kmol/m}^2 \cdot \text{s}$,
 $y_1 = 0.02$, $K_y a = 0.1\text{kmol/m}^3 \cdot \text{s}$, $E = 60\text{kPa}$

求： y_2

解题思路： $m = E/P$

$$L/G = 0.018/0.03 = 0.6 = m$$

即操作线与平衡线平行，此时：

$$y_m = y_1 = y_2 = y_2 - mx_2 = y_2$$

$$H_{OG} = \frac{G}{K_y a} = \frac{0.03}{0.1} = 0.3\text{m}$$

$$H = H_{OG} \cdot N_{OG}$$

$$\therefore N_{OG} = \frac{2.7}{0.3} = 9$$

$$N_{OG} = \frac{y_1 - y_2}{\Delta y_m} = \frac{y_1 - y_2}{y_2}$$

得 y_2

22. 已知： $x_2 = 0.0002$, $L/G = 3$, $y_1 = 0.01$, $\eta = 0.90$, $y = 2x$, $x_2' = 0.00035$

求：(1) η'

(2) x_1'

解题思路：(1) $y_2 = y_1 (1 - \eta)$

$$\frac{1}{A} = \frac{m}{L/G}$$

$$N_{OG} = \frac{1}{1 - \frac{1}{A}} \ln \left[\left(1 - \frac{1}{A} \right) \frac{y_1 - mx_2}{y_2 - mx_2} + \frac{1}{A} \right]$$

当 x_2 上升时，由于 H 不变， H_{OG} 不变

$N_{OG} = H/H_{OG}$ 也不变，得

$$y_2', \eta' = \frac{y_1 - y_2'}{y_1}$$

(2) 物料衡算：

$$G(y_1 - y_2') = L(x_1' - x_2')$$

$$\therefore x_1' = \frac{G}{L}(y_1 - y_2') + x_2'$$

23. 已知： $P=101.3\text{kPa}$ ， $t=15$ ， $y_1=0.0145$ ， $x_2=0.2$ ， $y_e=1.05 \times 10^{-4}$ ， $y_2=0.000322$ ， $K_{ya} \propto G^{0.8}$ ， $L \gg G$

求： $G'=2G$ 时， y_2'

解题思路： $y_e=\text{常数}$ ， $N_{OG} = \int_{y_2}^{y_1} \frac{dy}{y - y_e} = \ln \frac{y_1 - y_e}{y_2 - y_e}$

当流率增加一倍时， $H_{OG} = \frac{G}{K_{ya}} \propto \frac{G}{G^{0.8}} \propto G^{0.2}$

$$H_{OG}' = H_{OG} \times 2^{0.2}$$

塔高不变，则

$$H = H_{OG} \cdot N_{OG} = H_{OG}' \cdot N_{OG}'$$

$$N_{OG}' = \frac{H_{OG}}{H_{OG}'} \cdot N_{OG}$$

得 y_2'

解题思路：

1. 已知：P=101.3kPa，苯(A)—甲苯(B)溶液

$$\log P_A^0 = 6.031 - \frac{1211}{t + 220.8} \quad (P^0 \text{ — kPa, } t \text{ — })$$

$$\log P_B^0 = 6.080 - \frac{1345}{t + 219.5}$$

$$t_1=108, \quad t_2=81$$

求：(1) α_1, α_2

(2) $\alpha_m, x \sim y$ 表

解题思路：(1) $t_1=108$ 时

$$\log P_A^0 = 6.031 - \frac{1211}{108 + 220.8} = 2.348, \quad P_A^0 = 222.8 \text{ kPa}$$

$$\log P_B^0 = 6.080 - \frac{1345}{108 + 219.5} = 1.973, \quad P_B^0 = 94.0 \text{ kPa}$$

$$\therefore \alpha_1 = \frac{P_A^0}{P_B^0}$$

$t_2=81$ 时

$$\log P_A^0 = 6.031 - \frac{1211}{81 + 220.8} = 2.018$$

$$P_A^0 = 104.33 \text{ kPa}$$

$$\log P_B^0 = 6.080 - \frac{1345}{81 + 219.5} = 1.604$$

$$P_B^0 = 40.19 \text{ kPa}$$

$$\therefore \alpha_2 = \frac{P_A^0}{P_B^0}$$

$$(2) \alpha_m = \frac{1}{2}(\alpha_1 + \alpha_2)$$

由 $y = \frac{\alpha x}{1 + (\alpha - 1)x}$ 计算

2. 已知：乙苯(A)—苯乙烯(B)溶液理想物系，P=8kPa， $y_A=0.595$

$$\log P_A^0 = 6.08240 - \frac{1424.225}{213.206 + t} \quad (P^0 \text{ — kPa, } t \text{ — })$$

$$\log P_B^0 = 6.08232 - \frac{1445.58}{209.43 + t}$$

求：(1) t

(2) x_A

解题思路：(1) $y_A = \frac{P_A^0}{P} \cdot \frac{P - P_B^0}{P_A^0 - P_B^0}$

设：温度 t ，计算 P_A^0 ， P_B^0 ， y_A

直至 y_A 符合

$$(2) x_A = \frac{P - P_B^0}{P_A^0 - P_B^0}$$

3. 已知：乙苯(A)—苯乙烯(B), $P=13.6\text{kPa}$, $x_A=0.144$ 。

求：(1) t

(2) y_A

解题思路：(1) 设液体温度 t ，计算 P_A^0 ， P_B^0 ， x_A

直至 x_A 符合

$$(2) y_A = \frac{P_A^0 x_A}{P}$$

4. 已知： $P=303.9\text{kPa}$ ，丁烷(A)—戊烷(B)， $y_{F(A)}=0.8$ ，
 $t=40$ 下， $P_A^0=373.3\text{kPa}$ ， $P_B^0=117.1\text{kPa}$ ，

求： $n_{\text{液}}/n_{\text{汽}}$

解题思路：冷凝至 40 后：

$$x_A = \frac{P - P_B^0}{P_A^0 - P_B^0}$$

$$y_A = \frac{P_A^0}{P} x_A$$

取总物料为 1 摩尔计：

$$\begin{cases} n_{\text{液}} x_A + n_{\text{汽}} y_A = 0.8 \\ n_{\text{液}} + n_{\text{汽}} = 1.0 \end{cases}$$

$$\text{得 } \frac{n_{\text{液}}}{n_{\text{汽}}} = \frac{y_A - 0.8}{0.8 - x_A}$$

5. 已知： $P=101.3\text{kPa}$ 下作简单精馏 $W_1=100\text{kmol}$ ， $x_1=0.40$ ， $x_2=0.30$ ， $\alpha=3.0$

求：(1) $W_{\text{汽}}$ ， \bar{y} (2) 改为平衡蒸馏， $W_{\text{汽}}$ ， y

$$\text{解题思路：(1) } \ln \frac{W_1}{W_2} = \frac{1}{\alpha - 1} \left[\ln \frac{x_1}{x_2} + \alpha \ln \frac{1 - x_2}{1 - x_1} \right]$$

得 W_2

$$\therefore W_{\text{汽}} = W_1 - W_2$$

$$\bar{y} = x_1 + \frac{W_2}{W_1 - W_2}(x_1 - x_2)$$

$$(2) y = \frac{\alpha x_2}{1 + (\alpha - 1)x_2}$$

由物料衡算 $(W_1 - W_{\text{汽}})x_2 + W_{\text{汽}}y = w_1x_1$

$$W_{\text{汽}} = W_1 \cdot \frac{x_1 - x_2}{y - x_2}$$

6. 已知： $x_f=0.24, q=1, x_D=0.95, x_w=0.03$

求：(1) D/F

$$(2) R = 2 \text{ 时}, \frac{L}{V}, \frac{\bar{V}}{L}$$

$$(3) R = 4 \text{ 时}, \frac{L}{V}, \frac{\bar{V}}{L}$$

解题思路：(1) 物料衡算

$$\begin{cases} D + W = F \\ Dx_D + Wx_w = Fx_f \end{cases}$$

$$\begin{cases} D + W = F \\ 0.95D + 0.03W = 0.24F \end{cases}$$

解得 D/F

$$(2) \frac{L}{V} = \frac{RD}{(R+1)D} = \frac{R}{R+1}$$

$$q = 1, \bar{L} = L + qF = RD + F$$

$$\bar{V} = V - (1-q)F = (R+1)D$$

$$\therefore \frac{\bar{L}}{\bar{V}} = \frac{R+F/D}{R+1}$$

得 $\frac{\bar{V}}{L}$

$$(3) \frac{L}{V} = \frac{R}{R+1}$$

$$\frac{\bar{L}}{\bar{V}} = \frac{R+F/D}{R+1}$$

$$\text{得 } \frac{\bar{V}}{L}$$

7. 已知：苯—甲苯系统：

$$x_f=0.3, t_f=40, F=\text{kmol/h}, P=101.3\text{kPa}, x_D=0.95, x_w=0.03, R=3$$

求： \bar{V}

解题思路：查苯—甲苯相平衡，得 $x_f=0.3$ 时， $t_s=98.6$ ，

$$\text{由 } t = \frac{1}{2}(t_f + t_s)$$

$$\text{查得：} C_{P\text{苯}}=148\text{kJ/kmol} \cdot, \quad C_{P\text{甲苯}}=175\text{kJ/kmol} \cdot \\ r_{\text{苯}}=33300\text{kJ/kmol}, \quad r_{\text{甲苯}}=39200\text{kJ/kmol}$$

$$C_P = C_{P\text{苯}} \cdot x_f + C_{P\text{甲苯}} \cdot (1 - x_f)$$

$$r = r_{\text{苯}} x_f + r_{\text{甲苯}} (1 - x_f)$$

$$q = 1 + \frac{C_P}{r} (t_s - t_f)$$

物料衡算：

$$\begin{cases} D + W = F \\ Dx_D + Wx_w = Fx_f \end{cases}$$

$$\begin{cases} D + W = 10 \\ 0.95D + 0.03W = 0.3 \times 10 \end{cases}$$

得 D

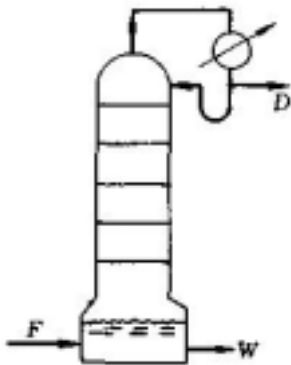
$$V = (R+1)D$$

$$\bar{V} = V - (1-q)F$$

8. 已知： $x_f=0.1, q=0, F=10\text{kmol/h}, x_D=0.9, x_w=0.05$ ，塔釜加料

求：(1) V

(2) R, L/V



解题思路：(1) 物料衡算：
$$\begin{cases} D+W=F \\ Dx_D+Wx_w=Fx_f \end{cases}$$

得 $D, V=F$

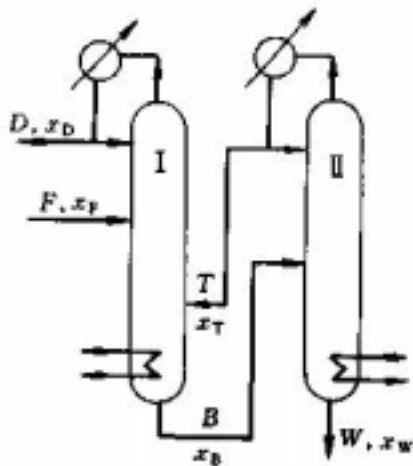
$$(2) V=(R+1)D, R=\frac{V}{D}-1$$

$$\frac{L}{V}=\frac{RD}{(R+1)D}=\frac{R}{R+1}$$

9. 已知： $R_1=R_2=3, q_1=q_2=1$ ，饱和液体回流。 $x_f=0.6, x_D=0.9, x_B=0.3, x_T=0.5$ ， $F=100\text{kmol/h}$ ， $\eta_{\text{总}}=0.9$

求：(1) \bar{V}_2

(2) 1 塔中段操作线



解题思路：(1) $\eta_{\text{总}}=\frac{Dx_D}{Fx_f}$ ，得 D

对 1 塔作物料恒算：

$$\begin{cases} F+T=D+B \\ Fx_f+Tx_T=Dx_D+Bx_B \end{cases}$$

得 T, B

对 2 塔， $V_2=(R_2+1)T$

$$\bar{V}_2=V_2-(1-q_2)B=V_2$$

(2) 取 1 塔中段第 n 块板至塔顶作物料衡算。

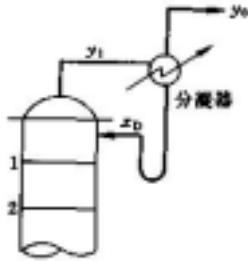
$$Fx_f+V'y_{n+1}=Dx_D+L'x_n$$

$$y_{n+1}=\frac{L'}{V'}x_n+\frac{Dx_D-Fx_f}{V'}$$

$$q_1 = 1 \quad \therefore V' = V = (R_1 + 1)D$$

$$L' = L + qF$$

10. 已知：塔顶产品组成：全凝器时为 x_D ，分凝器时为 y_0 ，求： $x_D=y_0$ 时，两种情况下的操作线方程。



解题思路：由精馏段一截面与塔顶（包括分凝器在内）作物料衡算。

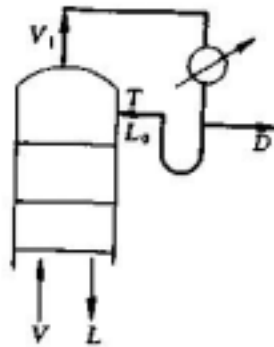
$$Vy = Lx + Dy_0, \text{ 若回流比为 } R$$

$$\text{则 } y = \frac{L}{V}x + \frac{D}{V}y_0 = \frac{R}{R+1}x + \frac{1}{R+1}y_0$$

$$\text{对于全凝器时，精馏段操作线 } y = \frac{R}{R+1}x + \frac{1}{R+1}x_D$$

可知：当选用的回流比一致，且 $x_D=y_0$ 时两种情况的操作线完全一致。在 $y \sim x$ 图上重合，分凝器相当于一块理论板。

11. 已知：冷回流 $R' = L_0/D$ ，塔内实际回流 $R = L/D$ 。



$$\text{试证：(1) } R = R' \left[\frac{r + c_p(T_s - T)}{r} \right]$$

(2) 操作线方程形式不变

$$y_{n+1} = \frac{R}{R+1}x_n + \frac{x_D}{R+1}$$

解题思路：(1) 对塔顶第一块板作能量衡算

$$L_0 i_0 + V_2 I_2 = L_1 i_1 + V_1 I_1$$

忽略 V_1 与 V_2 的温度变化，则 $I_1 = I_2 = I_0$ 。

又：对该板作物料衡算。

$$V_2 + L_0 = L_1 + V_1$$

将此两式代入能量衡算式，整理可得：

$$L_1 = L_0 \frac{I - i_0}{I - i}$$

若以 0 为焓的基准，则 $I = C_p T_S + r$ ， $i = T_S C_p$ ， $i_0 = T C_p$

(2) 若对精馏段任一截面与塔顶作物料衡算：

$$\begin{cases} V = L + D \\ Vy = Lx + Dx_D \end{cases} \quad R = L/D$$

$$\therefore y = \frac{L}{V}x + \frac{D}{V}x_D = \frac{R}{R+1}x + \frac{x_D}{R+1}$$

12. 已知： $x_f = 0.5$ ， $x_D = 0.96$ ， $x_w = 0.05$ ， $q = 1$ ， $R = 1.2R_{\min}$ ， $\alpha = 2.5$

求：逐板计算法得 N_T ，加料位置。

解题思路： $q = 1$ ， $x_q = x_f = 0.5$

$$y_q = \frac{\alpha x_q}{1 + (\alpha - 1)x_q}$$

$$\frac{R_{\min}}{R_{\min+1}} = \frac{x_D - y_q}{x_D - x_q}, \text{ 得 } R_{\min}$$

$$\therefore R = 1.2R_{\min}$$

精馏段操作线方程：

$$y_{n+1} = \frac{R}{R+1}x_n + \frac{x_D}{R+1}$$

提馏段操作线方程：

$$y_{m+1} = \frac{\bar{L}}{V}x_m - \frac{Wx_w}{V}$$

$$q = 1 \quad \therefore V' = V = (R+1)D$$

$$L' = L + qF = RD + qF$$

由全塔物料衡算：

$$\begin{cases} F = D + W \\ Fx_f = Dx_D + Wx_w \end{cases} \Rightarrow \begin{cases} F = D + W \\ 0.5F = 0.96D + 0.05W \end{cases}$$

$$\frac{W}{F} = 0.505, \quad \frac{D}{F} = 0.495$$

$$y_{m+1} = \frac{\bar{L}}{V} x_m - \frac{Wx_w}{V}$$

$$= \frac{R \cdot D / F + q}{(R+1)D/F} x_m - \frac{W/F}{(R+1) \cdot D/F} x_w$$

平衡方程： $y = \frac{2.5x}{1+1.5x}$ 即 $x = \frac{y}{2.5-1.5y}$

自塔顶往下计算： $y_1 = x_D = 0.96$

$$x_1 = \frac{y_1}{2.5-1.5y_1} = \frac{0.96}{2.5-1.5 \times 0.96} = 0.906$$

$$y_2 = 0.58 \times 0.906 + 0.403 = 0.928$$

计算，当第 m 块板时， $x < x_q = 0.5$ ，为加料板

计算，当第 N 块理论板 $x < x_w = 0.05$

所以，全塔需理论板为 N 块（包括釜）

13. 已知： $F = 15 \text{ kmol/h}$, $x_f = 0.35$, $x_D = 0.95$, $x_w = 0.04$, $q = 1$, $R = 1.5$,
间接蒸汽加热分离甲醇—水溶液

求：(1) \bar{V} ,

(2) 图解法 N_T

解题思路：(1) $\eta = \frac{Dx_D}{Fx_f} = \frac{(x_f - x_w)}{(x_D - x_w)} \cdot \frac{x_D}{x_f}$

$$D = F \cdot \frac{x_f - x_w}{x_D - x_w}$$

$$q = 1.0,$$

$$\text{塔釜蒸发量 } \bar{V} = V = (R+1)D$$

(2) 按教材附录的平衡数据作出甲醇—水溶液的平衡曲线。

精馏段操作线截距

$$\frac{x_D}{R+1} = \frac{0.95}{1.5+1} = 0.38$$

作图得 N_T (包括釜)，加料板位置为第 m 块理论板。

14. 已知：数据同上题，改用直接饱和蒸汽加热， x_D , x_w , R 不变

求：(1) S,

(2) 作图计 N_T

解题思路：(1) x_D 、 x_w 不变

$$S = \bar{V} = (R+1)D - (1-q)F = (R+1)D$$

$$\therefore \begin{cases} S + F = D + W \\ Fx_f = Dx_D + Wx_w \end{cases}$$

得 D, W

$$S = \bar{V} = (R + 1)D$$

$$\text{回收率 } \eta = \frac{Dx_D}{Fx_f}$$

(2) 改用直接蒸汽加热后精馏段操作线方程没变

$$\text{提馏段} \begin{cases} S + \bar{L} = \bar{V} + W \\ \bar{L}x = \bar{V}y + Wx_w \end{cases}$$

$$S = \bar{V} \quad \bar{L} = W$$

$$\text{得 } y = \frac{W}{S}x - \frac{W}{S}x_w$$

显然 $x=x_w$ 时, $y=0$

作图可得 N_T 块 (包括釜), 加料板位置为第 m 块理论板。

15. 已知: $x_D=0.98, x_f=0.60, x_w=0.05, R=1.5R_{\min}, \quad =2.47, q=1$

求: 捷算法 N_T

解题思路: $q=1, \quad x_q=x_f=0.6$

$$y_q = \frac{\alpha x_q}{1 + (\alpha - 1)x_q}$$

$$\frac{R_{\min}}{R_{\min+1}} = \frac{x_D - y_q}{x_D - x_q}$$

得 $R_{\min}, R = 1.5R_{\min},$ 算 $\frac{R - R_{\min}}{R + 1}$

查吉利兰图得 $\frac{N - N_{\min}}{N + 1}$

$$\text{由芬斯克方程可得: } N_{\min} = \frac{\log\left[\left(\frac{x_D}{1 - x_D}\right)\left(\frac{1 - x_w}{x_w}\right)\right]}{\log \alpha}$$

可得 N (包括塔釜)

16. 已知: $x_f=0.42, q=1, x_w=0.02, \quad =2.5,$ 塔顶不回流,

求: (1) $x_D=0.6$ 时, N_T

(2) N_T 不限, $x_{D\max}$

解题思路: (1) 该塔为一无回流回收塔, 其操作线即为提馏段操作线

$$y = \frac{\bar{L}}{\bar{V}}x - \frac{W}{\bar{V}}x_w$$

且 $q=1, R=0$

$$\therefore \bar{L} = F, \quad \bar{V} = D$$

$$y = \frac{F}{D}x - \frac{W}{D}x_w$$

由全塔物料衡算

$$\frac{D}{F} = \frac{x_F - x_w}{x_D - x_w}$$

$$\frac{W}{F} = 1 - \frac{D}{F}$$

$$y_1 = \frac{\alpha x_1}{1 + (\alpha - 1)x_1}$$

逐板计算： $y_1 = x_D = 0.6$

$$x_1 = \frac{y_1}{2.5 - 1.5y_1} = \frac{0.6}{2.5 - 1.5 \times 0.6} = 0.375$$

$$y_2 = 1.45 \times 0.375 - 0.009 = 0.535, \quad x_2 = 0.315$$

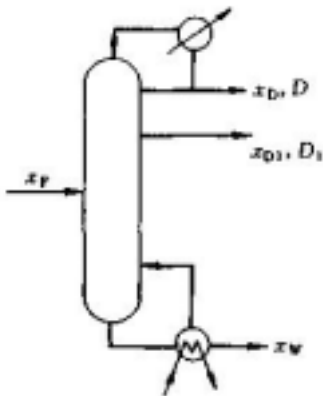
依次反复计算，至 $x_N \quad x_w = 0.02$

(2) 在设计条件下，若板数不限则 $N_T =$ 时，塔顶产物可达 x_{Dmax}

$$x_{Dmax} = \frac{\alpha x_f}{1 + (\alpha - 1)x_f}$$

17. 已知： $x_D = 0.9, x_{D1} = 0.7, x_f = 0.4, x_w = 0.1, q = 1.05, R = 2, \quad = 2.4, D/D_1 = 2, D_1$ 为液相。

求： N_T



解题思路：第一段操作线方程：

$$V_1 y = L_1 x + D x_D$$

$$y = \frac{L_1}{V_1} x + \frac{D}{V_1} x_D = \frac{R}{R+1} x + \frac{x_D}{R+1}$$

第二段操作线方程：

$$V_2 y = L_2 x + D x_D + D_1 x_{D1}$$

$$y = \frac{L_2}{V_2} x + \frac{D x_D + D_1 x_{D1}}{V_2}$$

$$D_1 \text{ 为液相, } V_2 = V_1 = (R+1)D \quad L_2 = L_1 - D_1$$

$$\therefore y = \frac{R - D_1/D}{R+1} x + \frac{x_D + D_1/D \cdot x_{D1}}{R+1}$$

第三段操作线方程：

$$V_3 y + F \cdot x_f = L_3 x + D x_D + D_1 x_{D1}$$

$$y = \frac{L_3}{V_3} x + \frac{D x_D + D_1 x_{D1} - F x_f}{V_3}$$

$$q=1.05$$

$$L_3 = L_2 + qF = 2D - D_1 + 1.05F$$

$$V_3 = V_2 - (1-q)F = 3D + 0.05F$$

作全塔物料衡算：

$$\begin{cases} F = D + D_1 + W \\ F x_f = D x_D + D_1 x_{D1} + W x_w \\ D/D_1 = 2 \end{cases}$$

得 D_1/F , D/F , 操作线方程

$$q \text{ 线方程: } y = \frac{q}{q-1} x - \frac{x_f}{q-1}$$

联立得交点

$$\text{由塔顶 } y_1 = x_D = 0.9, \quad x_1 = \frac{y_1}{2.4 - 1.4 y_1} = \frac{0.9}{2.4 - 1.4 \times 0.9} = 0.789$$

$$y_2 = 0.667 \times 0.789 + 0.3 = 0.826$$

依次计算

$$x_2 < x_{D1} = 0.7$$

换第二段操作线计算，至 $x_9 < x = 0.411$

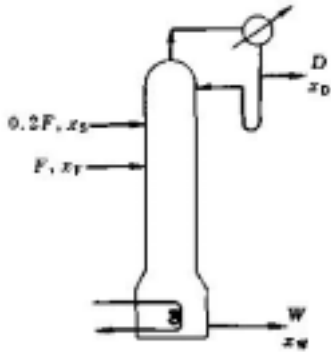
换第三段操作线计算，至 $x_N < x = 0.1$

得 N_T (包括釜)

$$18. \text{ 已知: } x_D = 0.98, x_S = 0.56, x_f = 0.35, x_w = 0.02, \quad = 2.4, S = 0.2F, q_f = q_s = 1$$

求：(1)

(2) R_{\min}



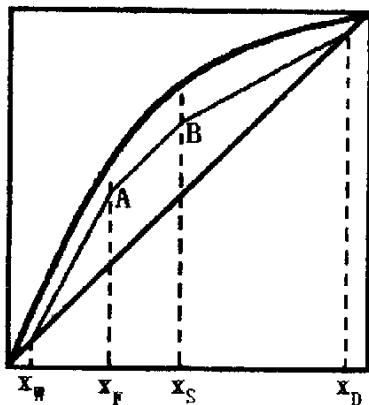
解题思路：(1) 作全塔物料衡算：

$$\begin{cases} S + F = D + W \\ S \cdot x_s + F \cdot x_f = Dx_D + Wx_w \\ S = 0.2F \end{cases}$$

解得 D/F

$$\eta = \frac{Dx_D}{Sx_s + Fx_f}$$

两段加料，全塔有三段操作线，如图示。



在最小回流比下，可能出现的有 A 点或 B 点成为挟点。

(i) 当 A 点挟紧时， $q_f=1$

$$x_A = x_f = 0.35$$

$$y_A = \frac{\alpha x_A}{1 + (\alpha - 1)x_A}$$

$$\frac{L''}{V''} = \frac{y_A - x_w}{x_A - x_w}$$

$$q_s=1 \quad L''=L'+F=L+S+F=RD+1.2F$$

$$V''=V'=V=(R+1)D$$

$$\therefore \frac{R_{\min}D + 1.2F}{(R_{\min} + 1)D} = \frac{y_A - x_w}{x_A - x_w}$$

得 $R_{\min A}$

(ii) 当 B 点挟紧时, $q_s=1$

$$x_B = x_S = 0.56$$

$$y_B = \frac{\alpha x_B}{1 + (\alpha - 1)x_B}$$

$$\frac{R_{\min}}{R_{\min} + 1} = \frac{x_D - y_B}{x_D - x_B}$$

得 $R_{\min B}$

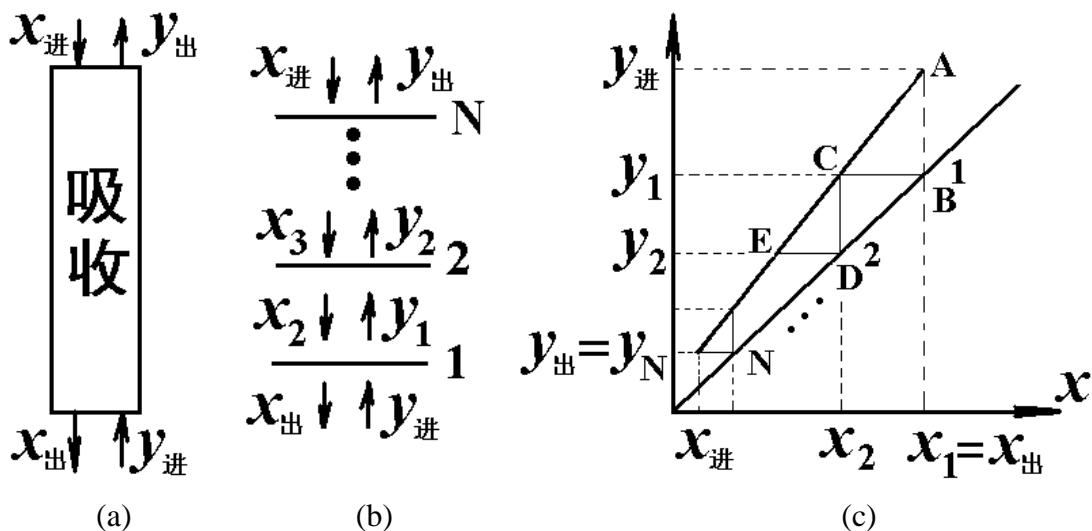
比较 $R_{\min A}$ 与 $R_{\min B}$, 取大者

第 09 章 05 讲：

19. 逆流吸收, 物系相平衡服从 $y=mx$, 证明 $N_T = \frac{1 - \frac{mG}{L}}{\ln \frac{L}{mG}} N_{OG}$

解题思路：如(a)图所示的吸收过程，由式(8-84)可得

$$N_{OG} = \frac{1}{1 - \frac{mG}{L}} \ln \left[\left(1 - \frac{mG}{L}\right) \frac{y_{\text{进}} - mx_{\text{进}}}{y_{\text{出}} - mx_{\text{进}}} + \frac{mG}{L} \right] \quad (1)$$



按照理论板的概念，如图(b)所示。 $y_{\text{出}}=y_N$, $x_{\text{出}}=x_1$ 。图(c)中画出了操作线与平衡线,以及梯级三角形。ABC 与 CDE 为相似三角形。线 AB 比线 BC 等于 L/G , 即操作线的斜率;线 CD 比线 BC 等于 m , 即平衡线的斜率。相似三角形的相似比就是线 AB 与线 CD 之比, 等于 $L/mG=A$ 。这样,

$$y_{\text{进}} - mx_{\text{进}} = (y_{\text{进}} - y_1) + (y_1 - y_2) + (y_2 - y_3) + \dots + (y_{N-1} - y_N) + (y_N - mx_{\text{进}})$$

$$= [1 + \frac{1}{A} + \frac{1}{A^2} + \frac{1}{A^3} + \dots + \frac{1}{A^N}] (y_{\text{进}} - y_1)$$

$$= [1 + \frac{1}{A} + \frac{1}{A^2} + \frac{1}{A^3} + \dots + \frac{1}{A^N}] (y_N - mx_{\text{进}}) A^N$$

或 $\frac{y_{\text{进}} - mx_{\text{进}}}{y_{\text{出}} - mx_{\text{进}}} = 1 + A^2 + A^3 + \dots + A^N = \frac{A^{N+1} - 1}{A - 1} = \frac{A^N - \frac{1}{A}}{1 - \frac{1}{A}}$

20. 已知： $N_T=5, x_f=0.5, q=1, m=3$ (第三块加料)， $R=3, D/F=0.44, \alpha=2.47$
求： x_D, x_W

解题思路： $\frac{D}{F} = \frac{x_f - x_w}{x_D - x_w}$

$$x_D = \frac{x_f - x_w}{D/F} + x_w$$

先设 $x_w=0.194$, 则

$$x_D = \frac{0.5 - 0.194}{0.44} + 0.194 = 0.889$$

精馏段操作线方程：

$$y = \frac{R}{R+1} x + \frac{x_D}{R+1} = \frac{3}{3+1} x + \frac{0.889}{3+1} = 0.75x + 0.222$$

提馏段操作线方程：

$$y = \frac{\bar{L}}{V} x - \frac{W}{V} x_w$$

$$q=1 \quad \therefore \bar{L} = L + qF = RD + F \quad \bar{V} = V = (R+1)D$$

$$\therefore y = \frac{R+F/D}{R+1} x - \frac{F/D-1}{R+1} x_w$$

$$= \frac{3+1/0.44}{3+1} x - \frac{1/0.44-1}{3+1} \times 0.194 = 1.32x - 0.0617$$

平衡线方程：

$$x = \frac{y}{\alpha - (\alpha-1)y} = \frac{y}{2.47 - 1.47y}$$

自塔顶逐板计算： $y_1=x_D=0.889$

$$x_1 = \frac{y_1}{2.47 - 1.47y_1} = \frac{0.889}{2.47 - 1.47 \times 0.889} = 0.764$$

$$y_2 = 0.75 \times 0.764 + 0.222 = 0.795$$

由计算结果验证 x_w 。

21. 已知：将上题的加料板位置上移一块，即：m=2

求： x_D, x_w

解题思路：先设 $x_w=0.207$

$$\therefore x_D = \frac{0.5-0.207}{0.44} + 0.207 = 0.873$$

精馏段操作线方程：

$$y = \frac{R}{R+1}x + \frac{x_D}{R+1} = \frac{3}{3+1}x + \frac{0.873}{3+1} = 0.75x + 0.218$$

提馏段操作线方程：

$$\begin{aligned} y &= \frac{R+F/D}{R+1}x - \frac{F/D-1}{R+1}x_w \\ &= \frac{3+1/0.44}{3+1}x - \frac{1/0.44-1}{3+1} \times 0.207 = 1.32x - 0.0659 \end{aligned}$$

相平衡方程：

$$x = \frac{y}{2.47-1.47y}$$

自塔顶逐板计算，由计算结果验证 x_w 。

22. 已知： $N_T=3, x_f=0.002, q=0, R=4, y=6.4x$ ，塔釜进料

求： x_D, x_w

$$\text{解题思路： } N_T = \frac{1}{\ln \frac{1}{A}} \ln \left[(1-A) \frac{x_D - \frac{y_{N+1}}{K}}{x_w - \frac{y_{N+1}}{K}} + A \right]$$

$$\frac{1}{A} = \frac{KV}{L} = \frac{(R+1)K}{R}$$

$q=0$ ，塔釜进料 $y_{N+1}=x_f=0.002$

获得 x_D 与 x_w 的关系

又有该塔仅有精馏段，其操作线方程

$$y = \frac{R}{R+1}x + \frac{x_D}{R+1} = \frac{4}{4+1}x + \frac{x_D}{4+1} = 0.8x + 0.2x_D$$

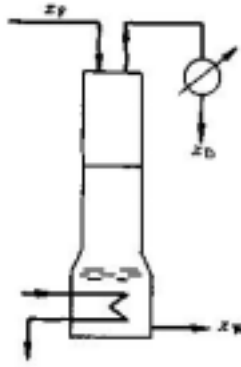
$$y = x_f = 0.0002 \text{ 时, } x = x_w$$

$$\therefore 0.002 = 0.8x_w + 0.2x_D$$

将上两式联立可解得 x_D, x_w 。

23. 已知： $N_{\text{实}}=1, q=1$ ，塔顶加入 $x_f=0.2, \eta=80\%, x_D=0.28, \eta=2.5, R=0$

求： x_w, E_{mV}



解题思路： $\eta = \frac{Dx_D}{Fx_f}$ ，可得 D/F，W/F

$$\text{全塔物料衡算} \quad \begin{cases} F = D + W \\ Fx_f = Dx_D + Wx_w \end{cases}$$

可得 x_w

$$E_{mV} = \frac{y_1 - y_2}{y_1^* - y_2}$$

塔釜相当于一块理论板

$$\therefore y_2 = y_w = \frac{\alpha x_w}{1 + (\alpha - 1)x_w}$$

又 $y_1 = x_D = 0.28$

取塔顶与第一块塔板之间作控制体

得衡算式 $Vy_2 + Fx_f = Lx_1 + Dx_D$

由恒摩尔流得 $F=L$ ， $D=V$

$$\therefore \frac{D}{F}y_2 + x_f - \frac{D}{F}x_D = x_1$$

$$\therefore y_1^* = \frac{\alpha x_1}{1 + (\alpha - 1)x_1}$$

$$\therefore E_{mV} = \frac{y_1 - y_2}{y_1^* - y_2}$$

24. 已知： $x_f=0.5$ ， $q=1$ ， $\alpha=2$ ， $D/F=0.6$ ， $N_T=$

求：(1) $R=0.8$ ， x_D ， x_w

(2) $R=1.5$ ，绘操作线示意图

解题思路：(1) $N_T=$ ，设 y_q, x_q 达相平衡，则 $R=R_{\min}=0.8$

$$q=1, \quad x_q=x_f=0.5$$

$$\therefore y_q = \frac{\alpha x_q}{1 + (\alpha - 1)x_q}$$

由 $\frac{R_{\min}}{R_{\min} + 1} = \frac{x_D - y_q}{x_D - x_q}$ ，得 x_D

验物料衡算

$$x_w = \frac{x_f - \frac{D}{F}x_D}{1 - \frac{D}{F}} \text{ 是否 } > 0$$

(2) 仍为 y_q, x_q 达平衡，则

$$\frac{1.5}{1.5+1} = \frac{x_D - 0.667}{x_D - 0.5}$$

$$\therefore x_D = 0.917$$

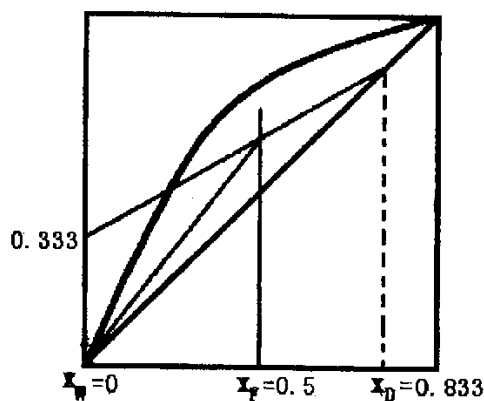
验物料衡算

$$x_w = \frac{x_f - \frac{D}{F}x_D}{1 - \frac{D}{F}} = \frac{0.5 - 0.6 \times 0.917}{1 - 0.6} = -0.05 < 0$$

原假设不成立，而显然在 $x_w=0$ 处相平衡

$$\therefore x_w = 0 \quad x_D = \frac{Fx_f}{D} = \frac{0.5}{0.6} = 0.833$$

精馏段操作线截距 $\frac{x_D}{R+1}$



全塔操作线如图示。

解题思路：

1. 已知：常压苯—甲苯系统， $R=$ ， $x_9=0.652$ ， $x_{10}=0.489$
求：第十块板默弗里湿板效率 E_{MV}

$$\text{解题思路： } E_{MV} = \frac{y_n - y_{n+1}}{y_n^* - y_{n+1}} = \frac{y_{10} - y_{11}}{y_{10}^* - y_{11}}$$

全回流下，表观操作线方程 $y_{n+1}=x_n$

$$y_{11}=x_{10}=0.489 \quad y_{10}=x_9=0.653$$

$$y_{10}^* = \frac{\alpha x_{10}}{1 + (\alpha - 1)x_{10}}$$

苯—甲苯系统 $\alpha=2.48$

2. 已知：常压，甲醇—水系统， $x_f=0.4$ ， $x_D=0.9$ ， $x_w=0.05$ ，
求：用 O'connell 关联图估计 E_T

解题思路：由教材附录相平衡数据查得：

$$t_{\text{底}}=93 \quad t_{\text{顶}}=67.8$$

$$t_m=(t_{\text{底}}+t_{\text{顶}})/2=(93+67.8)/2=80.4$$

再查 $t=80$ 时，汽液共存

$$y=0.650 \quad x=0.241$$

$$\therefore \alpha = \frac{y}{1-y} \cdot \frac{1-x}{x}$$

$t=80.4$ 时， $\mu_{\text{水}}=0.356\text{mPa} \cdot \text{s}$ ， $\mu_{\text{甲}}=0.275 \text{mPa} \cdot \text{s}$

$$\mu_L = \sum_{i=1}^n x_i \mu_i = 0.4 \times 0.275 + 0.6 \times 0.356 = 0.324 \text{mPa} \cdot \text{s}$$

算 $\alpha \mu_L$

查 O'connell 关联图得 E_T

3. 已知： $y_{\text{进}}=0.02$ ， $y_{\text{出}}=2 \times 10^{-5}$ ， $E_{mv}=0.5$ ， $m=0$

求： $N_{\text{实}}$

解题思路： $m=0$ $y_n^*=0$

$$\text{每板 } E_{mv} = \frac{y_n - y_{n+1}}{y_n^* - y_{n+1}} = 1 - \frac{y_n}{y_{n+1}}$$

N 块板逐推得 $y_{\text{出}} = y_{\text{进}}(1 - E_{mv})^N$

$$\therefore N_{\text{实}} = \frac{\ln\left(\frac{y_{\text{出}}}{y_{\text{进}}}\right)}{\ln(1 - E_{mv})}$$

5. 已知： $R=$ ， $x_D=8.05 \times 10^{-3}$ ， $x_w=8.65 \times 10^{-4}$ ， $H=8\text{m}$ ， $\alpha=1.10$

求：HETP

解题思路：由芬斯克方程得

$$N_{\min} = \frac{\log\left[\frac{x_D}{1-x_D} \cdot \frac{1-x_w}{x_w}\right]}{\log \alpha} \text{ (包括釜)}$$

不包括釜 $N_T = N_{\min} - 1$

$$\therefore \text{理论当量高度 } HETP = \frac{H}{N_T}$$